



TEMA 1 "REPRESENTAMOS LA TIERRA" C. SOCIALES

Selecciona la respuesta correcta.

1. ¿Qué son los mapas?

- ☐ A Son líneas imaginarias que unen los polos.
- ☐ B Son representaciones planas de la Tierra o de parte de ella.
- ☐ C Son representaciones reducidas de la Tierra.

2. ¿Para qué sirve el título de un mapa?

- ☐ A Para informar del contenido del mapa.
- ☐ B Para saber cuántas veces se ha reducido el territorio.
- ☐ C Para conocer el significado de los símbolos.

3. ¿Qué indica la escala de un mapa?

- ☐ A La relación que hay entre la distancia de un territorio en la realidad y la que ocupa en el mapa.
- ☐ B La relación que hay entre la distancia de un territorio en el mapa y la que ocupa en un planisferio.
- ☐ C La proporción de un mapa.

4. ¿Qué son los paralelos?

- ☐ A Son líneas imaginarias que unen los polos.
- ☐ B Son líneas imaginarias que rodean la Tierra.
- ☐ C Son líneas imaginarias que dividen la Tierra en hemisferio este y oeste.

5. ¿Qué son los meridianos?

A

Son líneas imaginarias que unen los polos.

B

Son líneas imaginarias que rodean la Tierra.

C

Son líneas imaginarias que dividen la Tierra en hemisferio norte y sur.

6. ¿Qué es la latitud?

A

Es la distancia que hay desde cualquier punto de la Tierra hasta el meridiano de Greenwich.

B

Es la distancia que hay desde cualquier punto de la Tierra al polo.

C

Es la distancia que hay desde cualquier punto de la Tierra hasta la línea del ecuador.

7. Selecciona la definición de longitud.

A

Distancia que hay desde cualquier punto de la Tierra hasta el meridiano de Greenwich.

B

Distancia que hay desde cualquier punto de la Tierra hasta la línea del ecuador.

C

Distancia que hay desde cualquier punto de la Tierra.

8. ¿Qué se necesita para dar la posición exacta de un lugar?

A

La latitud.

B

La longitud.

C

Las coordenadas geográficas.

9. ¿Qué representan los planisferios físicos?

A

La extensión, la localización y los límites o fronteras de los países de la Tierra.

B

Los accidentes geográficos del mundo: el tamaño y la forma de los continentes, el relieve y los principales ríos del planeta.

C

Los valores de la latitud y la longitud en un punto.

10. ¿Qué representa el planisferio político?

A

La extensión, la localización y los límites o fronteras de los países de la Tierra.

B

Los accidentes geográficos del mundo: el tamaño y la forma de los continentes, el relieve y los principales ríos del planeta.

C

Los trópicos de Cáncer y Capricornio y el ecuador.

Selecciona en cada caso la respuesta correcta.

1. Los meridianos son

2. El meridiano 0 es el meridiano de

3. El meridiano cero divide la Tierra en dos hemisferios:

4. Los meridianos permiten conocer la

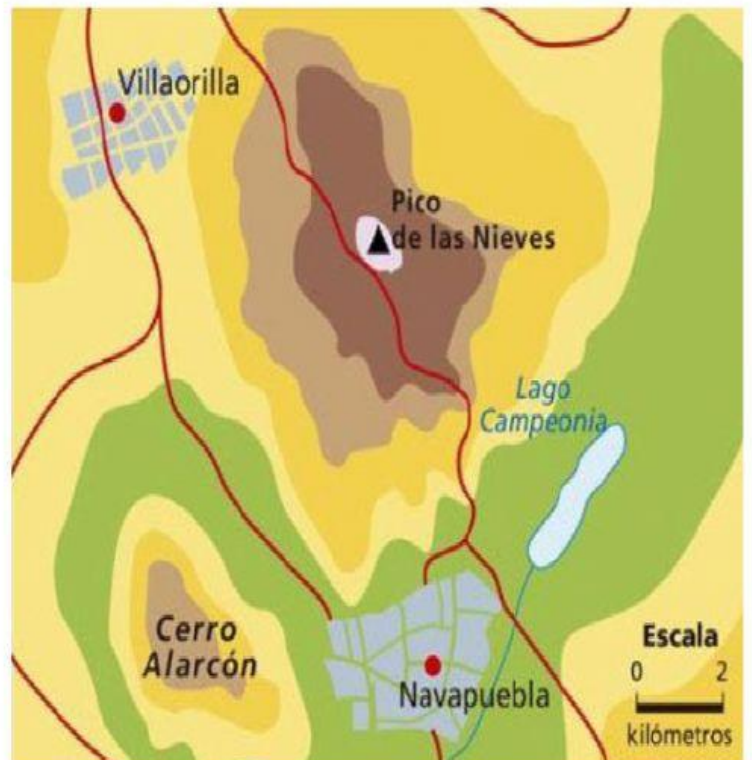
5. Los meridianos se numeran en grados de



Teniendo en cuenta que la escala gráfica indica que un centímetro son 2 kilómetros y que la distancia entre Villaorilla y Navapuebla en el mapa es de 6 centímetros:

- ¿Cuál es la distancia real entre ambas localidades?

- A 10 kilómetros.
- B 12 kilómetros.
- C 15 kilómetros.
- D 13 kilómetros.



Selecciona en cada caso la opción correcta.

Latitud de la península ibérica y Baleares

Longitud de la península ibérica y Baleares

Latitud de las islas Canarias

Longitud de las islas Canarias



Observa el mapa y completa el texto.

Las coordenadas geográficas del **punto A** son

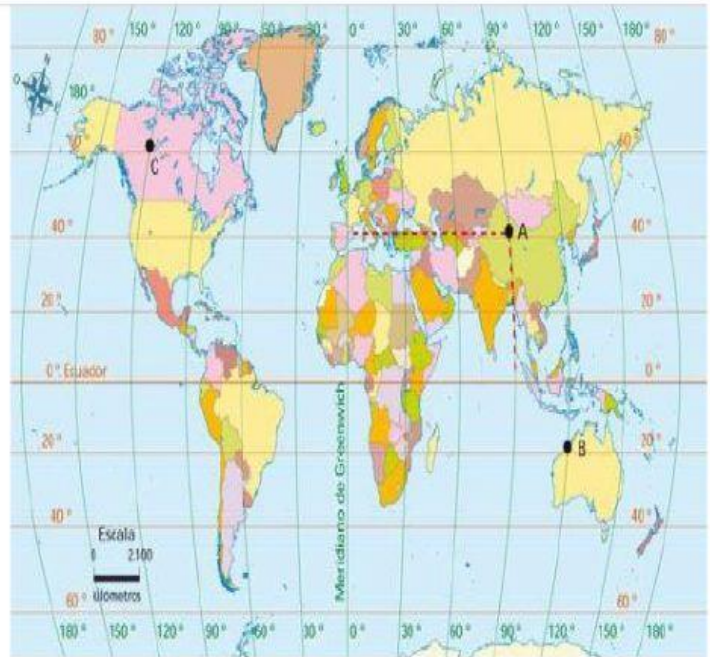
y se encuentra en el continente de .

Las coordenadas geográficas del **punto B** son

y se encuentra en el continente de .

Las coordenadas geográficas del **punto C** son

y se encuentra en el continente de .



120° N 60° O

40° N 90° O

60° N 120° O

Asia

Oceanía

40° N 90° E

20° N 120° E


América

20° S 120° E

Completa el texto colocando los conceptos en su lugar correspondiente.

Los son representaciones de la o parte de ella.

En los mapas aparecen diferentes que nos permiten interpretar la información que contienen. Dichos elementos son el , los , la rosa de los vientos, la y la escala.



planas

leyenda

elementos

mapas

título

textos

Tierra