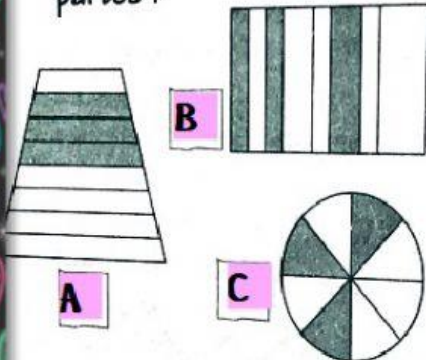
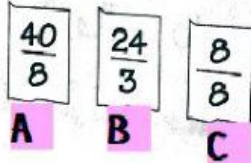


## FRACCIONES REPASO

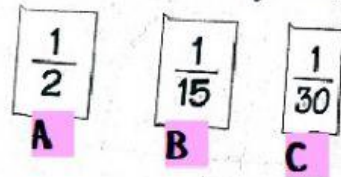
1 ¿Qué figura representa las  $\frac{3}{8}$  partes?



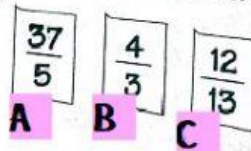
3 ¿Qué fracción representa 8 enteros?



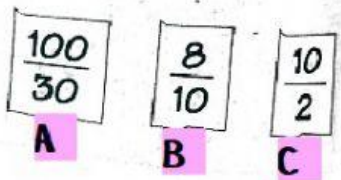
2 ¿Qué fracción representa 1 quincena del mes de noviembre?



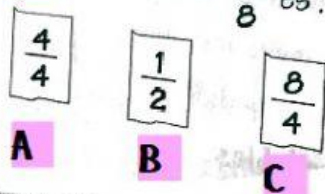
4 ¿Cuál **no** puede transformarse en número mixto?



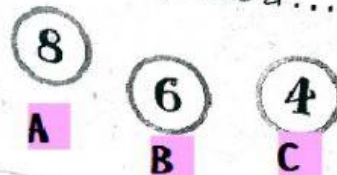
5 ¿Cuál es decimal?



6 La mitad de  $\frac{8}{8}$  es...



7  $\frac{4}{6}$  de 12 corresponde a...



8

¿A qué fracción corresponde esta representación en la recta?



A  $\frac{1}{2}$

B  $\frac{5}{3}$

C  $1\frac{1}{2}$

9

¿Cuál es la fracción equivalente a  $\frac{4}{7}$ ?

A  $\frac{4}{14}$

B  $\frac{8}{7}$

C  $\frac{8}{14}$

10

Para obtener una fracción equivalente...

... se multiplica al numerador y al denominador por el mismo número.

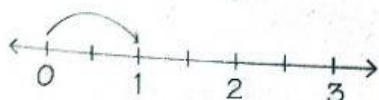
A

... se multiplica el numerador por un número y al denominador por otro.

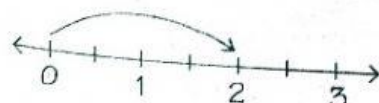
B

11

¿Cuál de estas rectas tiene representados  $\frac{2}{2}$ ?



A



B



C

12

La fracción menor es...

A  $\frac{5}{5}$

B  $\frac{9}{10}$

C  $\frac{4}{3}$

COMPLETÁ EL FORMULARIO DE GOOGLE