

LEMBAR KERJA PESERTA DIDIK (LKPD) PERKEMBANGBIAKAN PADA HEWAN







A. Perkembangbiakan Vegetatif

Tentukan cara perkembangbiakan vegetatif hewan berikut dengan mengklik salah satu dari pilihan yang ada!



B. Perkembangbiakan Generatif

Tentukan cara perkembangbiakan generatif hewan berikut dengan mengklik salah satu dari pilihan yang ada!

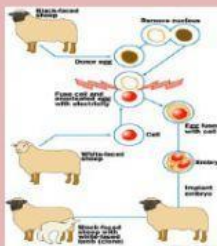


C. Teknologi Reproduksi pada Hewan

Tariklah nama teknologi reproduksi hewan yang sesuai dengan gambar!

Hewan

Teknologi Reproduksi




Inseminasi buatan

Kloning

Hibridisasi

D. Lengkapi teka-teki silang berikut!



Mendatar	Menurun
1. pematihan atau pemotongan tubuh induk menjadi dua bagian atau lebih.	2. Pada jenis hewan yang lain, hewan muda memiliki struktur dan fungsi organ tubuh yang berbeda dengan hewan dewasa. Hewan muda tersebut kemudian berkembang melalui tahap tertentu.
6. Cara perkembangbiakan pada hewan lebah, semut, tawon, kutu daun, dan kutu air.	3. Cara perkembangbiakan Ubur-ubur dan hydra.
7. Hewan yang berkembangbiak dengan membentuk tunas	4. setiap potongan tubuhnya akan membentuk individu baru dengan bagian tubuh yang lengkap seperti induknya
11. Perkembangbiakan dengan bertelur dan beranak	5. Perkembangbiakan dengan cara beranak.
12. Pada hewan yang mengalami metamorfosis sempurna, telur akan berkembang menjadi hewan muda	8. Hewan yang mengalami metamorfosis sempurna.
	9. Perkembangbiakan dengan bertelur.
	10. Pada hewan yang mengalami metamorfosis tidak sempurna, telur akan berkembang menjadi hewan muda

LEMBAR KERJA PESERTA DIDIK (LKPD)

METAMORFOSIS

A. JENIS METAMORFOSIS

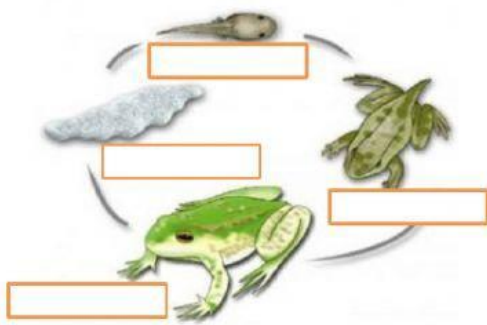
Hewan berdasarkan jenis metamorfosis ada 3, yaitu Ametabola (tidak mengalami metamorfosis), Hemimetabola (metamorfosis tidak sempurna) dan Holometabola (metamorfosis sempurna).

Tentukan jenis metamorfosis dari hewan berikut dengan cara mengklik salah satu dari pilihan yang telah disediakan!

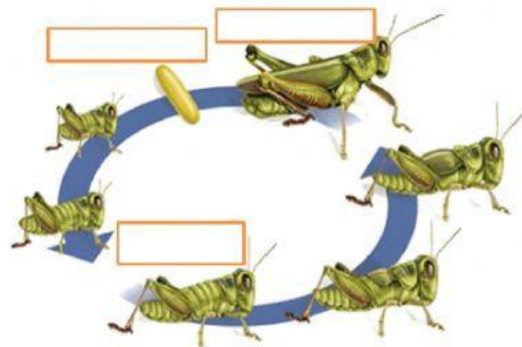


B. TAHAPAN METAMORFOSIS

Lengkapilah bagan metamorfosis berikut!



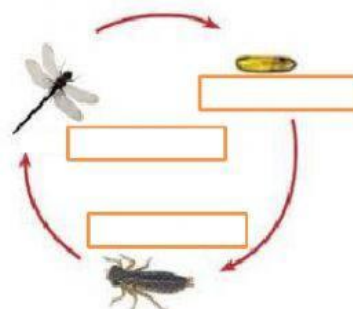
Metamorfosis katak



Metamorfosis belalang



Metamorfosis kupu-kupu



Metamorfosis capung