

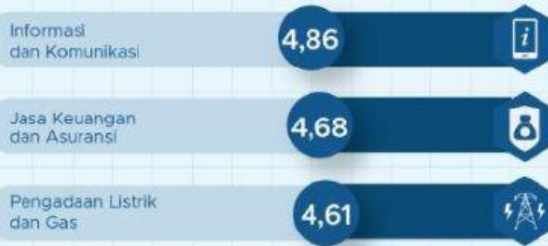
# RATA-RATA UPAH<sup>1</sup> BURUH<sup>2</sup> PER BULAN FEBRUARI 2022



Berita Resmi Statistik No. 36/05/Th. XXV, 9 Mei 2022

## LAPANGAN PEKERJAAN DENGAN RATA-RATA UPAH TERTINGGI

(Juta Rupiah)



## LAPANGAN PEKERJAAN DENGAN RATA-RATA UPAH TERENDAH

(Juta Rupiah)



Rata-Rata Upah Buruh  
**2,89** Juta Rupiah  
per Bulan

## MENURUT JENIS KELAMIN

Rp 3.138.223

Rp 2.434.881

## MENURUT TINGKAT PENDIDIKAN

(Juta Rupiah)



Sumber : Survei Angkatan Kerja Nasional (Sakernas) Februari 2022

Catatan : <sup>1</sup>Upah adalah upah/gaji

<sup>2</sup>Buruh adalah Buruh/Karyawan/Pegawai



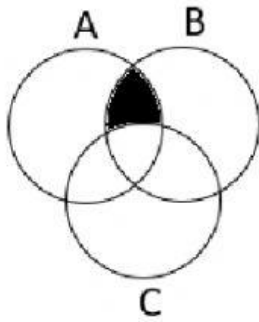
BADAN PUSAT STATISTIK  
<https://www.bps.go.id>

BPS RI menyelenggarakan Survei Upah Buruh (SUB) yang berstatus dibawah mandor melalui pendekatan perusahaan dan dilaksanakan empat kali dalam setahun di seluruh Indonesia. Survei ini mengumpulkan berbagai informasi tentang upah secara rinci di beberapa lapangan usaha, yaitu bidang informasi dan komunikasi, jasa keuangan dan asuransi, pertanian, kehutanan, perikanan, dan bidang lainnya.

Menurut Kepala BPS, Margo Yuwono, upah buruh di Indonesia masih tergolong rendah jika dibanding dengan negara tetangga. Menurutnya, hal ini terjadi karena buruh di Indonesia masih didominasi oleh buruh yang tingkat pendidikannya rendah. Semakin tinggi pendidikan maka akan sebanding dengan upah yang diterima.

1. Pernyataan yang tepat mengenai info grafis di atas adalah, **kecuali** . . . .
  - A. Rata – rata upah buruh laki – laki lebih tinggi dibanding perempuan.
  - B. Upah buruh tertinggi ada di bidang informasi dan komunikasi.
  - C. Semakin tinggi tingkat pendidikan semakin tinggi upah yang diterima.
  - D. Selisih upah buruh laki – laki dan perempuan adalah 703.432
  - E. Upah buruh bidang pertanian masih berada di bawah rata – rata.
2. Pertanyaan yang dapat di jawab dari bacaan dan info grafis di atas adalah, **kecuali** . . . .
  - A. Siapakah kepala BPS?
  - B. Apakah bidang pekerjaan yang upahnya paling besar?
  - C. Berapa kali BPS melaksanakan SUB?
  - D. Apakah tingkat pendidikan mempengaruhi upah yang diterima buruh?
  - E. Tanggal berapa SUB dilaksanakan untuk info grafis di atas?
3. Persentase rata – rata upah buruh lulusan diploma dan sarjana terhadap lulusan di bawahnya adalah . . . .
  - A. 52,3%
  - B. 63,4%
  - C. 75,2%
  - D. 84,1%
  - E. 91,5%
4. Perbandingan paling mendekati dari rata – rata upah laki – laki dan perempuan adalah . . . .
  - A. 4 : 5
  - B. 11 : 9
  - C. 14 : 11
  - D. 3 : 2
  - E. 5 : 3
5. Seekor sapi dapat menghabiskan pakan yang tersedia dalam 3 hari. Seekor kambing dapat menghabiskan pakan yang tersedia dalam waktu 6 hari. Waktu yang diperlukan untuk menghabiskan pakan yang tersedia jika ada seekor sapi dan seekor kambing adalah . . . .
  - A. 1 hari
  - B. 2 hari
  - C. 3 hari
  - D. 4 hari
  - E. 5 hari
6. 5, 6, 10, 19, 35, 60, . . . .
  - A. 63
  - B. 78
  - C. 96
  - D. 102
  - E. 110
7. 5, 6, 9, 18, 45, 126, 369, . . . .
  - A. 729
  - B. 867
  - C. 982
  - D. 1000
  - E. 1098

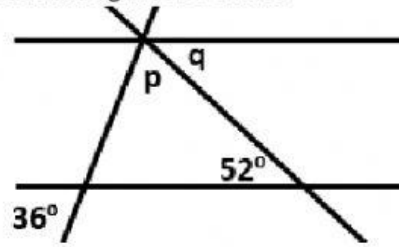
8. Perhatikan gambar di bawah ini!



Hubungan yang tepat untuk daerah yang diarsir adalah . . . .

- A.  $(A \cap C) - B$
  - B.  $(A \cap B) - C$
  - C.  $(A \cup B) - C$
  - D.  $(B \cap C) - A$
  - E.  $(B \cup C) - A$
9. Kakak beradik Aldo dan Aldi tinggal serumah dan bersekolah di tempat yang sama. Aldi berangkat terlebih dulu jam 6.30 mengendarai mobil dengan kecepatan rata – rata 60 km/jam. 10 menit kemudian Aldo berangkat dari rumah mengendarai motor. Jika keduanya sampai di sekolah jam 07.00, maka kecepatan Aldo mengendarai motor adalah . . . .
- A. 60 km/jam
  - B. 80 km/jam
  - C. 90 km/jam
  - D. 100 km/jam
  - E. 120 km/jam

10. Perhatikan gambar berikut!



Besar sudut  $p + 2q$  adalah . . . .

- A.  $196^\circ$
- B.  $158^\circ$
- C.  $144^\circ$
- D.  $126^\circ$
- E.  $106^\circ$