















AÑO ESCOLAR	ÁREA CURRICULAR	GRADO / AÑO	TRIMESTRE
2022	Matemática	2°	III
COMPETENCIA	Resuelve problemas de cantidad		
DESEMPEÑOS PRECISADOS	Expresa con diversas representaciones y lenguaje numérico (números y signos) su comprensión de la decena como nueva unidad en el sistema de numeración decimal usando material concreto y el valor posicional de una cifra en números de hasta dos cifras.		

1. Observa el dinero que tiene cada personaje, luego completa los recuadros con los sumandos correspondientes y halla el total.

$$\square + \square + \square + \square = \square$$




$$\square + \square + \square = \square$$




$$\square + \square + \square + \square + \square = \square$$






$$\square + \square + \square + \square = \square$$






$$\square + \square + \square + \square = \square$$