

تدريبات إثرانية على الطرح

اسم الطالب: الصف: أول-


اكتب جملة الطرح لتمثيل كل مسألة:



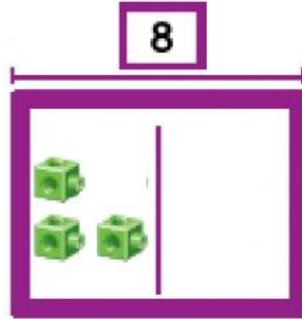
أخذت 3 كرات



أخذت 6 ثعالب

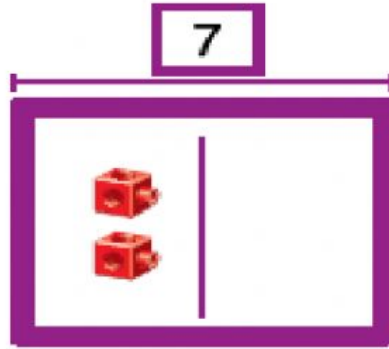


لدى خالد 8 ريالات أعطى أخيه 3 ريالات منها. كم ريالاً تبقى لدى خالد؟



$$\dots - \dots = \dots$$

في البركة 7 بطات غادرت منها 2 بطات. كم بطة بقيت في البركة؟



$$\dots - \dots = \dots$$

على الشجرة 8 عصافير طار منهم 5 عصافير. كم عصافيرًا تبقى على الشجرة؟



$$\dots - \dots = \dots$$

لدى سمر 9 طوابع أعطت صديقتها 4 طوابع. كم طابعًا بقي مع سمر؟

$$\dots - \dots = \dots$$

لدى سالم 8 زهور. أهدى صديقه منها 3 زهور. كم عدد الزهور التي بقيت لدى سالم؟


$$\dots - \dots = \dots$$

رسم خالد 6 ضفادع صفراء. ورسم سالم 3 ضفادع خضراء. بكم يزيد عدد الضفادع الصفراء عن عدد الضفادع الخضراء؟



$$\dots - \dots = \dots$$

بكم يزيد عدد العصافير الزرقاء عن عدد العصافير البرتقالية؟



$$\dots - \dots = \dots$$

$$\dots - \dots = \dots$$