



PEMERINTAH KABUPATEN SLEMAN
DINAS PENDIDIKAN
UPT PELAYANAN PENDIDIKAN KAPANEWON MINGGIR

PENILAIAN TENGAH SEMESTER GASAL
SEKOLAH DASAR KURIKULUM 2013
TAHUN PELAJARAN 2022/2023

Tema : 1
Muatan Pelajaran : PPKn, Bahasa Indonesia
Kelas : III (Tiga)
Hari, tanggal :
Waktu :

- I. Berilah tanda (x) pada huruf A, B dan C yang merupakan jawaban yang paling benar!

Muatan PPKn KD 3.1

1. "Ketuhanan Yang Maha Esa" merupakan salah satu sila Pancasila yang memiliki simbol ...

a.



b.






c.



2. Menjalankan ibadah sesuai dengan agama yang dianut, termasuk sila
Pancasila.
- a. Pertama
b. Kedua
c. Ketiga

3. Bersyukur terhadap segala pemberian Tuhan merupakan salah satu pengamalan sila Pancasila, yaitu sila Pancasila yang berbunyi
 - a. Kemanusiaan yang adil dan beradab
 - b. Ketuhanan Yang Maha Esa
 - c. Keadilan sosial bagi seluruh rakyat Indonesia
4. Tinggi badanmu lebih tinggi daripada teman-temanmu, maka sikap yang seharusnya kamu lakukan adalah
 - a. Saling menghargai
 - b. Saling mengejek
 - c. Meminta teman untuk memuji tinggi badanmu
5. Bekerja sama dan saling membantu saat piket kelas merupakan hal yang penting, berikut ini yang **bukan** manfaat bekerja sama adalah
 - a. Pekerjaan menjadi lebih cepat selesai
 - b. Pekerjaan menjadi lebih mudah
 - c. Pekerjaan menjadi lebih berat
6. Berikut ini yang **bukan** termasuk pengamalan sila ketiga Pancasila adalah
 - a. Mengerjakan ujian bersama-sama
 - b. Mengerjakan piket kelas bersama
 - c. Kerja bakti membersihkan halaman sekolah
7. Saling menghargai dan menghormati perbedaan dalam kehidupan sehari-hari akan memberikan manfaat, yaitu
 - a. Permusuhan dan saling membenci
 - b. Persatuan dan rukun
 - c. Pertengkaran dan perkelahian
8. Sikapmu saat ada teman yang sedang mengemukakan pendapat adalah
 - a. Tidak mendengarkan dan berbicara sendiri
 - b. Memperhatikan dan mendengarkan
 - c. Memotong pendapat teman
9. Saat ada teman yang mengalami musibah, maka yang hendaknya kita lakukan adalah
 - a. Membiarkannya dan pura-pura tidak tahu
 - b. Menertawakannya
 - c. Membantu semampu kita

10. Berikut ini yang merupakan simbol sila kelima Pancasila, yaitu

- a. 
- b. 
- c. 

Muatan Bahasa Indonesia KD 3.4

11. Berikut ini yang **bukan** termasuk ciri-ciri makhluk hidup adalah

- a. Bergerak
- b. Bernapas
- c. Berbicara

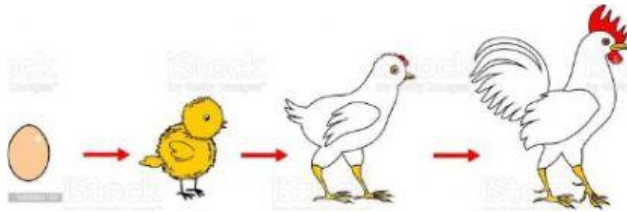
12. Makhluk hidup dapat bernapas, alat pernapasan setiap makhluk hidup berbeda-beda. Salah satu contohnya yaitu kuda, kucing dan sapi yang bernapas dengan menggunakan ...

- a. Insang
- b. Paru-paru
- c. Trakea

13. Makhluk hidup dapat bergerak. Ikan hidup didalam air, ikan bergerak menggunakan

- a. Insang
- b. Sirip
- c. Kaki

14. Perhatikan gambar dibawah ini!



Gambar tersebut menunjukan salah satu ciri-ciri makhluk hidup, yaitu

- a. Bergerak
- b. Bernafas
- c. tumbuh

15. Berikut ini tahapan pertumbuhan dan perkembangan kupu-kupu yang benar adalah

....

- a. Telur – ulat – kepompong – kupu-kupu
- b. Ulat – kepompong – kupu-kupu – telur
- c. Ulat – kupu-kupu – telur – kepompong

16. Perhatikan tabel berikut!

No	Tumbuhan
1	Padi
2	Bambu
3	Tebu
4	Jagung

Dari tabel tersebut, tumbuhan yang berkembangbiak dengan menggunakan tunas adalah

- a. 1 dan 2
- b. 2 dan 3
- c. 3 dan 4

17. Berikut ini yang termasuk perkembangbiakan tumbuhan secara buatan adalah . . .

- a. Spora dan stek
- b. Cangkok dan stek
- c. Spora dan biji

18. Bacalah teks dibawah ini dengan cermat!

Edo memiliki pohon mangga di halaman rumahnya. Edo ingin mencangkok pohon mangga tersebut supaya dapat diperbanyak. Edo memilih menggunakan cara cangkok, karena dengan cangkok akan menghasilkan tumbuhan baru yang lebih cepat berbuah. Namun, dengan cara cangkok tumbuhan baru yang dihasilkan akan lebih mudah roboh dibandingkan dengan tumbuhan yang berasal dari biji.

Berdasarkan teks diatas, kelebihan dari perkembangbiakan tumbuhan dengan cara cangkok adalah

- a. Tumbuhan cepat layu
- b. Tumbuhan lebih kuat
- c. Tumbuhan lebih cepat berbuah

19. Bunga merupakan alat perkembangbiakan pada tumbuhan. Ada beberapa bunga yang dijadikan sebagai bunga Nasional. Bunga yang memperoleh julukan "puspa bangsa" adalah

- a. Melati putih
- b. Rafflesia arnoldii
- c. Anggrek bulan

20. Perhatikan gambar dibawah ini!



Tumbuhan tersebut berkembangbiak dengan cara

- a. Umbi lapis
- b. Umbi batang
- c. Umbi akar

