

Paloma necesita 420 galletas para hacer el postre para una fiesta. Se venden en paquetes de 28 galletas.

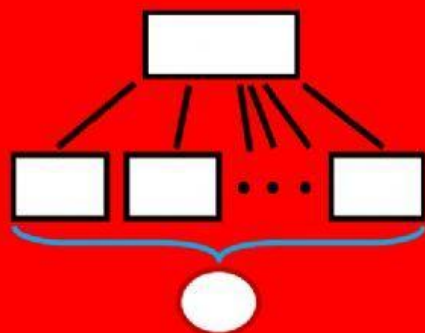
¿Cuántos paquetes de galletas tiene que comprar?

Edith necesitaba muchas galletas para hacer el postre para una fiesta. Compró 14 paquetes de 25 galletas cada uno.

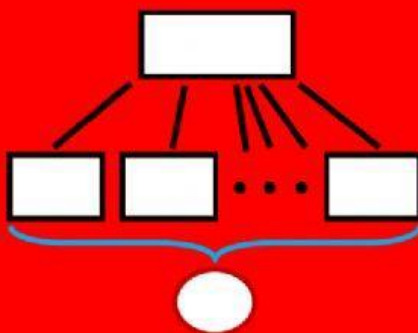
¿Cuántas galletas compró?

Julio necesita 540 galletas para un postre. Compró 27 paquetes de galletas y no le sobró ni una.

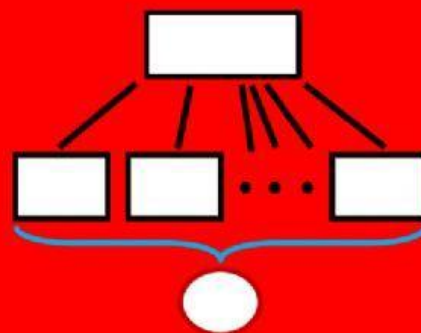
¿Cuántas galletas tiene cada paquete?



OPERACIÓN



OPERACIÓN



OPERACIÓN