


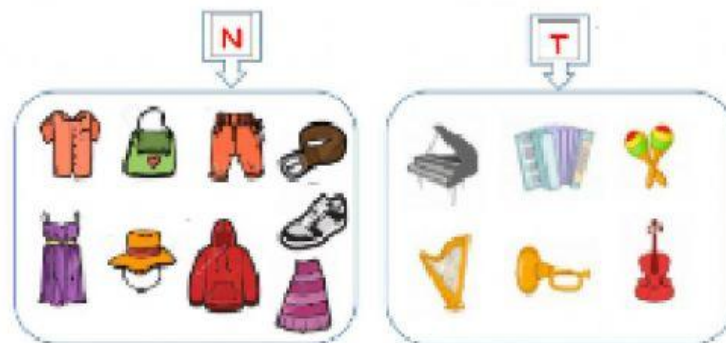
MATEMÁTICAS

Tema: Relación de pertenencia y correspondencia



Objetivo: Conocer los órganos más importantes del cuerpo humano y determinar su relación de correspondencia.

1. Observa los siguientes conjuntos y arrastra los símbolos de pertenencia y no pertenencia según corresponda.



_____ Al conjunto **T**



_____ Al conjunto **T**



_____ Al conjunto **N**

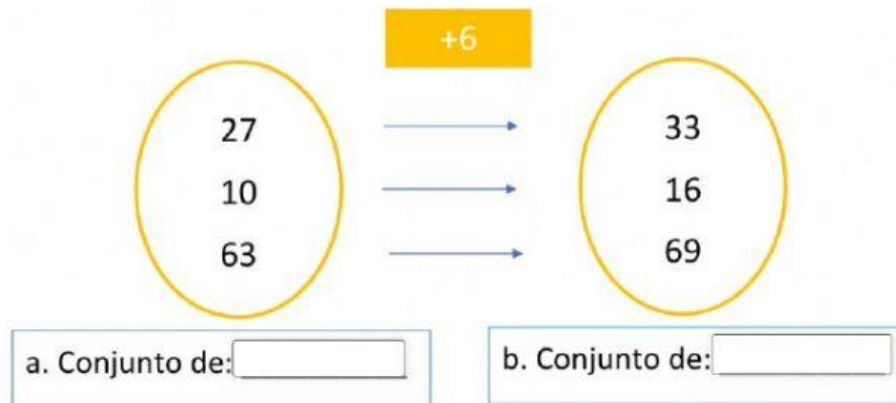


_____ Al conjunto **T**

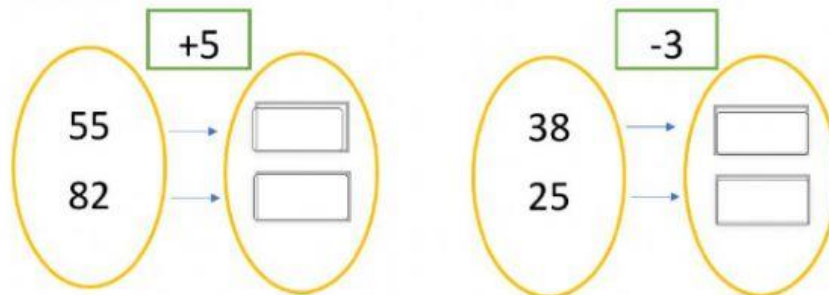


_____ Al conjunto **N**

2. Observa la relación de correspondencia y coloca el nombre de cada conjunto.



3. Completa los elementos del conjunto para que se cumpla la relación numérica.



“CUIDA DE TU CORAZÓN, COMIENDO SANO”

