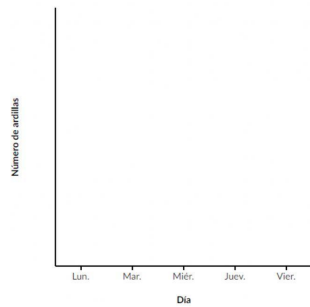


Luis ha contado el número de ardillas que cada día aparecen en su jardín. Representálas en el gráfico.

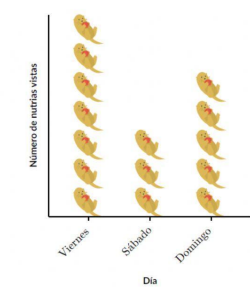
Día	Número de ardillas
Lunes	14
Martes	10
Miércoles	8
Jueves	10
Viernes	12

 = 2 ardillas



La empresa de paseos en lancha "Experiencia Nutria" creó una gráfica de dibujos para mostrar cuántas nutrias fueron vistas en sus paseos esta semana.

 = 4 nutrias



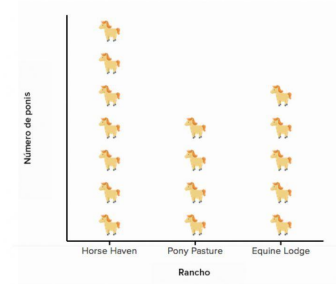
Completa la tabla usando el pictograma.

Día	Número de nutrias vistas
Viernes	<input type="text"/>
Sábado	<input type="text"/>
Domingo	<input type="text"/>

Carlos ha recogido el número de ponys que hay en los tres ranchos de su pueblo.

Rancho	Número de ponis
Horse Haven	49
Pony Pasture	28
Equine Lodge	35

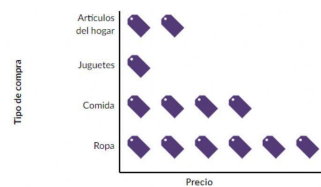
 = ? ponis



En el pictograma, cada  equivale a ponis.

Rosa tenía 75€ para gastarse en el supermercado y ha hecho una gráfica con todo lo que ha comprado.

 = 5€



Después de todo lo que compró, ¿cuánto dinero le ha sobrado?

Le han sobrado €