

# NÚMEROS DECIMALES

- Une mediante una línea los números decimales y como se leen.

Dieciocho unidades, nueve centésimas

18,9

1,10

Setenta y cuatro centésimas

Dieciocho unidades, nueve décimas

0,01

0,74

Una unidad, diez centésimas

Una centésima

Ocho unidades, dos décimas

8,2


18,09

- Desarrolla la suma y resta de números decimales

45,01 + 10,38						
	c	d	c	,	d	u
+						
=						


236,35 - 26,09						
	c	d	c	,	d	u
-						
=						

- Escribe el número decimal y como se lee según la gráfica.

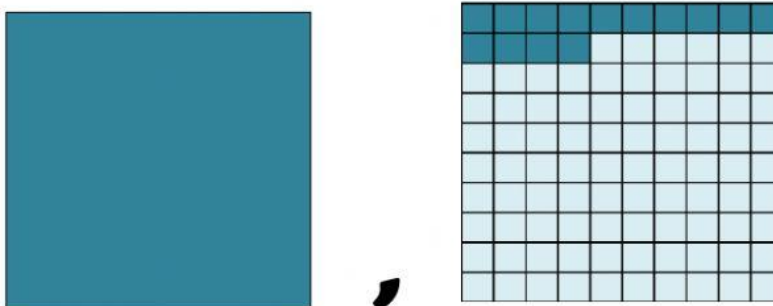


Número decimal: \_\_\_\_\_

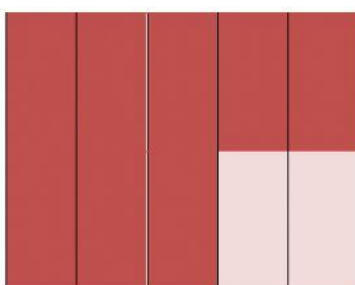
Se lee: \_\_\_\_\_



Número decimal: \_\_\_\_\_ Se lee: \_\_\_\_\_



Número decimal: \_\_\_\_\_ Se lee: \_\_\_\_\_



Número decimal: \_\_\_\_\_

Se lee: \_\_\_\_\_

