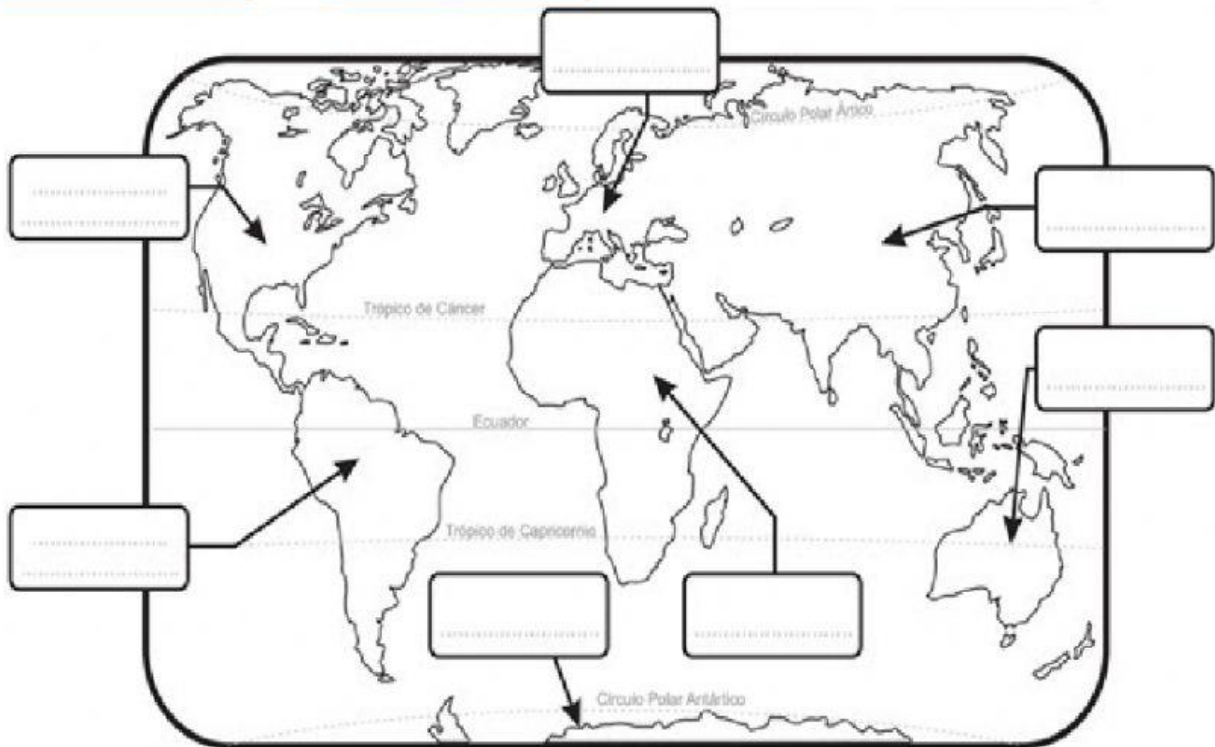




INSTITUCIÓN EDUCATIVA SOFÍA CAMARGO DE LLERAS
ACTIVIDAD EN CLASE
EUROPA ANTES DEL DESCUBRIMIENTO
CIENCIAS SOCIALES

1. **Arrastra el nombre de los continentes a su ubicación correcta en el planisferio:**

América del norte	América del sur	Europa	Oceanía
Asia	Antártida	África	



2. **Selecciona V si la afirmación es verdadera o F si es falsa:**

- a. Para los europeos la Tierra era redonda.....
- b. Los europeos creían que el mundo estaba conformado únicamente por Europa, Asia y África
- c. Pensaban que el océano Indico era el mar de las tinieblas
- d. Ningún marinero europeo se atrevía a alejarse de las costas porque creían que el mar estaba lleno de monstruos.....
- e. Creían que si navegaban hasta el borde de la Tierra podían caer a un abismo

3. Relaciona las columnas uniendo con líneas:

Mapas Portuarios

Los portugueses construyeron carabelas con las que podían llegar con facilidad en alta

Instrumentos de Navegación

Creados en Grecia por Claudio Ptolomeo. Fueron utilizados por los europeos para señalar las principales rutas comerciales.

Embarcaciones

Algunos fueron la Brújula y el Astrolabio.

4. Clasifica en la tabla las siguientes características de la economía de Europa arrastrándolas según correspondan al sistema feudal o al capitalismo mercantil.

Se le otorgó mayor valor al intercambio de mercancías.


La tierra estaba dividida en unidades llamadas **feudos**.

La acumulación de metales como oro y la plata también fue importante.

La tierra se constituyó en el símbolo de la riqueza.

La riqueza se pensaba como la ganancia en metales a partir del intercambio de productos.

Los propietarios o señores feudales ejercían relaciones de dominio sobre la población campesina.



SISTEMA FEUDAL	CAPITALISMO MERCANTIL

5. Selecciona la respuesta correcta.

a. ¿Para qué se utilizaba la brújula?




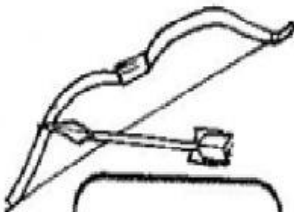
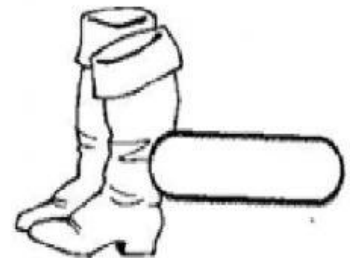


b. ¿Qué indicaba el astrolabio?



c. ¿Para qué se utilizaban los mapas portuarios?



6. Teniendo en cuenta lo aprendido de las culturas indígenas en América y en Colombia y de la vida en España y sus avances para el siglo XV, selecciona “España” o “América” según corresponda.



7. Lee el texto y selecciona la respuesta correcta

Los europeos en suelo americano

El 3 de agosto de 1492, Cristóbal Colón y su tripulación salieron del puerto de Palos en dos carabelas llamadas la Pinta y la Niña, y en una nao que llamaron la Santa María, en dirección a las islas Canarias. El 12 de octubre del mismo año, es decir, 71 días después, llegaron a una isla del Caribe a la que su población nativa llamaba Guanahani. Ya en tierra, Colón y sus hombres tomaron posesión del nuevo territorio en nombre de los reyes de Castilla y Aragón y con una ceremonia cambiaron su nombre original para llamarla San Salvador [1].

Colón estaba convencido de que había llegado a India, por esta razón, al territorio encontrado lo llamó tierra de indias y a los pobladores indios. En realidad, había llegado a un nuevo continente, a América. Posteriormente, Colón realizó tres viajes más entre 1493 y 1504.

De la misma manera, otros navegantes llegaron a tierras americanas. Vasco Núñez de Balboa atravesó el istmo de Panamá y descubrió el océano Pacífico en 1513. En 1519, desde Sevilla partió una expedición con más de 200 hombres al mando de Fernando de Magallanes. Este grupo de marineros atravesó el extremo sur de Argentina en dirección al occidente y siguió por el Pacífico hasta llegar a Filipinas. Así se comprobó que la Tierra era redonda.

Algunos países como Francia, Inglaterra y Holanda también participaron en la aventura de explorar el Nuevo Mundo. En sus expediciones ocuparon territorios donde fundaron colonias, explotaron sus recursos y crearon grandes imperios coloniales, lo cual les permitió extender su poder económico.

a. ¿En qué fecha partió Cristóbal Colón con su tripulación del Puerto de Palos?

b. ¿Cuáles fueron los nombres de las embarcaciones que utilizó Colón para iniciar su viaje?

c. ¿Dónde creyó Colón que había llegado y como llamó a sus habitantes?

d. ¿En qué años Colón realizó los siguientes viajes?

e. Relaciona las columnas:



Vasco Núñez de Balboa



Fernando Magallanes



Francia, Inglaterra y Holanda.

En 1519 partió desde Sevilla con más de 200 marineros que emprendieron una expedición con la que se pudo comprobar que la Tierra es redonda.

También participaron en la aventura de explorar el nuevo mundo.

Atravesó el istmo de Panamá y descubrió el océano Pacífico en 1513.