

NOMBRE

1. UNE CON FLECHAS. Une cada número con su descomposición.

Cuatrocientos veintiocho

7c, 9d

Novcientos cuarenta

9c, 4u

Seiscientos cincuenta y tres

4c, 2d, 8u

Setecientos noventa

9c, 4d

Novcientos cuatro

6c, 5d, 3u

2. REALIZA LAS SIGUIENTES OPERACIONES. Es muy importante que escribas directamente la solución en el recuadro, si no, te dará error.

$$\begin{array}{r} 108 \\ + 577 \\ \hline \end{array}$$

$$\begin{array}{r} 748 \\ - 509 \\ \hline \end{array}$$




$$\begin{array}{r} 308 \\ \times 6 \\ \hline \end{array}$$

$$\begin{array}{r} 592 \\ + 303 \\ \hline \end{array}$$

$$\begin{array}{r} 472 \\ - 361 \\ \hline \end{array}$$

$$\begin{array}{r} 415 \\ \times 4 \\ \hline \end{array}$$

3. ¿CUÁNTO DINERO HAY? Pincha en la respuesta correcta.

								
53€	1,52€	3,50€	5,55€	55€	50,5€	52€	50,02€	2,50€





4. PIENSA Y COMPLETA. Escribe en cada recuadro el número que corresponda.

1 € y 96 céntimos = + = céntimos.

2,99 € = + = céntimos.

3 € y 8 céntimos = + = céntimos.

5. ¿CON QUE CUERPOS GEOMÉTRICOS SE CORRESPONDEN LOS SIGUIENTES OBJETOS? Pincha en el desplegable y elige la opción correcta.

6. COMPLETA. Escribe el número que falta en cada caso.

$4 \times 6 = \square$	$\square \times 9 = 27$	$8 \times 5 = \square$	$6 \times \square = 36$
$5 \times \square = 45$	$7 \times 2 = \square$	$\square \times 10 = 70$	$\square \times 2 = 16$
$6 \times 8 = \square$	$3 \times \square = 21$	$\square \times 9 = 18$	$4 \times 9 = \square$

7. PIENSA Y RESUELVE. Escribe en cada recuadro el número correspondiente.

- ¿Cuántos días son 4 semanas y 3 días?

→ 4 semanas: $\square \times \square = \square$

→ 4 semanas y 3 días: $\square + \square = \square$ días.

- ¿Cuántos días son 2 meses y 5 días?

→ 2 meses: $\square \times \square = \square$

→ 2 meses y 5 días: $\square + \square = \square$ días.

Cuenta con un mes de 30 días

8. VERDADERO O FALSO. Escribe una V si es verdadero, y F si es falso. Tienes que escribirlas en mayúsculas.

- Una semana tiene 7 días. \square
- Un año tiene 11 meses. \square
- Algunos meses tienen 30 días. \square
- Febrero siempre tiene 29 días. \square
- Un euro (€) tiene 100 céntimos. \square
- Hay monedas de 1, 2, 5, 10, 20, 30, 50 céntimos. \square
- El billete más pequeño vale 10 euros (€). \square