


Problemas

1.- De las 450 butacas de un cine, 375 están ocupadas. ¿Cuántas butacas quedan libres?



Quedan libres _____ butacas

2.- Juan tiene 640 euros y los quiere repartir entre 5 niños. ¿Cuántos euros le corresponderán a cada uno?



A cada uno le corresponderán _____ euros.


3.- Cristina tiene 168 cromos y Javier tiene 79 cromos más que ella.

a) ¿Cuántos cromos tiene Javier?



Javier tiene _____ cromos.

b) ¿Cuántos Cromos tienen entre los dos?



Entre los dos tienen _____ cromos

4.- Para la excursión de fin de curso hemos rifado un jamón. Hemos vendido 169 papeletas a 6 euros cada una.

a) ¿Cuántos hemos recogido?



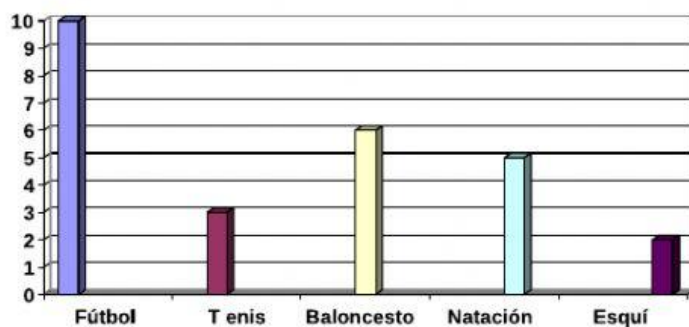
Hemos recogido _____ euros

b) Si el jamón nos ha costado 210 euros. ¿Cuántos nos han

Nos han quedado _____ euros

5.- En esta gráfica se han representado los deportes preferidos por los alumnos y alumnas de la clase.

Alumnos/as



Deportes preferidos

DEPORTES PREFERIDOS	ALUMNOS Y ALUMNAS
Fútbol	
Tenis	
Baloncesto	
Natación	
Esquí	

a).- Con los datos de la gráfica, completa la tabla de frecuencias y contesta a continuación:

¿Qué deporte tiene mayor número de preferencias? _____

¿Cuál tiene menos? _____

¿Cuántos alumnos/as hay en total en la clase? _____