


Szöveges feladat:

Gyulai Milánnak 20 állatos kártyája volt. Ebből 5-öt elvesztett, de 2-t kapott Tölgyesi Milántól. Hány kártyája lett így?



Ide rajzolhatsz:

Számolhatsz dominóképen:


Számítás:

--	--	--	--	--	--	--	--	--	--

Válasz:

Szöveges feladat:

Aletta az Állatkertben megetetett 17 kecskét. 8-cal többet, mint Janika. Mennyi állatot etetett meg Janika?



Ide rajzolhatsz:

Számolhatsz dominóképen:


Számítás:

--	--	--	--	--	--	--	--	--	--

Válasz:

Szöveges feladat:

Anya a kirándulásra 14 szendvicset készített.
Vendi 5-öt, Hajas Laci pedig 4-et evett meg.
Mennyi maradt Komlói Lacinak?



Ide rajzolhatsz:

Számolhatsz
dominóképen:

Számítás:

--	--	--	--	--	--	--	--

Válasz: _____

Szöveges feladat:

Kornél 12 kengurut számolt a karámban.
Nyolccal kevesebbet számolt Kristóf.
Mennyi a különbség a két fiú számolása között?



Ide rajzolhatsz:

Számolhatsz
dominóképen:


Számítás:

--	--	--	--	--	--	--	--

Válasz: _____

Szöveges feladat:

Dani kezében 12 szem mogyoró van, Ádám kezében pedig 5-tel kevesebb. Hány szem mogyoró van a két fiú kezében?



Ide rajzolhatsz:

Számolhatsz dominóképen:

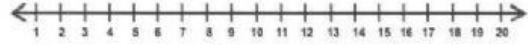
Számítás:

--	--	--	--	--	--	--	--	--	--

Válasz:

Szöveges feladat:

Az Állatkert legmagasabb fája 11 méter, egy másik pedig csak 4 méter magas. Mennyi a különbség a két fa között?



Ide rajzolhatsz:

Számolhatsz dominóképen:

Számítás:

--	--	--	--	--	--	--	--	--	--

Válasz:
