






Év végi ismétlés – nyitott mondat



1. Mely számok kerülhetnek a kincsesládába? Mindenhová legalább három számot írd!



$9 <$  $:$ _____


$6 + 7 >$  $:$ _____


$9 <$  $< 6 + 7$ $:$ _____


 > 14 $:$ _____


 $< 5 + 7$ $:$ _____


$19 - 6 <$  $:$ _____


2. Hány hal fér az akváriumban? Számold ki a nyitott mondat alapján!

$19 - 3 <$  $< 9 + 11$ $:$ _____


$7 + 5 <$  $:$ _____



$20 - 13 <$  $< 8 + 9$ $:$ _____


$6 + 3 >$  $:$ _____


$13 - 8 <$  $< 7 + 4$ $:$ _____


$3 +$  < 11 $:$ _____


3. Hány lábuk van az állatoknak? Írj a képről műveleteket!



4. a) Töltsd ki a táblázatot!
b) Írj szabályt!

	6	8	12	9	15	11			
	0	2	6				8	13	14

= _____

= _____

5. Mit csinál a gép? Írd le a szabályt! Töltsd ki a táblázatot a szabály alapján!

	10	19	7	20	11	15			
	3	12	0				2	8	5

= _____

= _____

6. Egészítsd ki a táblázatot!

A gazdaságban összesen húsz állat van. Hány tehén és hány malac van összesen?

	14	17		7	5		9		
	6		4			18		12	1