




























Nombre:

Señala las coordenadas de los personaje. Recuerda que primero debes señalar la letra y luego el número, por ejemplo (A,1).

Después responde a las preguntas.

A					
B					
C					
D					
E					
F					
	1	2	3	4	5

1

2

3

4

5

A

B

C

D

E

F



(,)



(,)



(,)



(,)

(,)



¿Qué hay en las casillas D-2 y D-3?

¿En qué casillas esta



?

¿En qué casillas podemos encontrar el anden $9 \text{ y } 3/4$?

Señala dos casillas que tengan las reliquias de la muerte