

Alicia va a comprar para su restaurante 92 yogures naturales en pack de 4 cada uno.

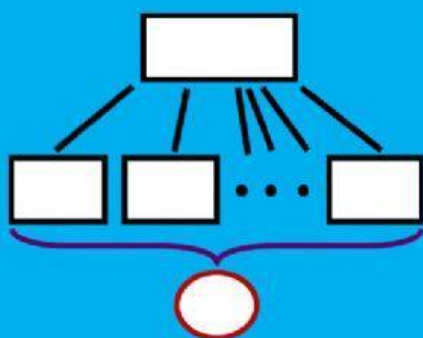
¿Cuántos pack de yogures va a comprar?

Elvira va a comprar para su restaurante 22 packs de yogures naturales con 6 yogures cada uno.

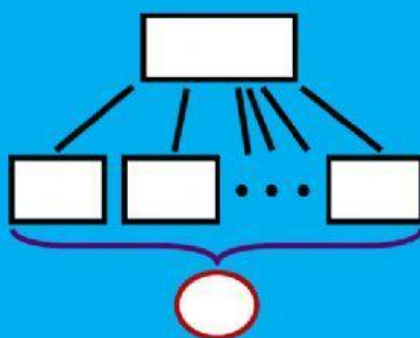
¿Cuántos yogures va a comprar en total?

Tomás va a comprar para su restaurante 15 pack de yogures naturales, en total 120 yogures.

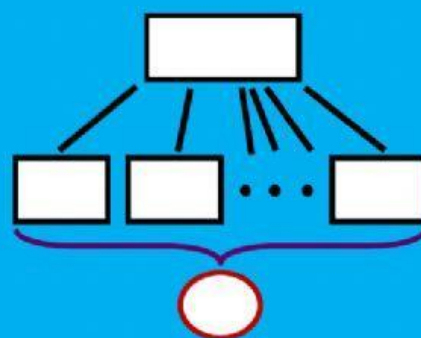
¿Cuántos yogures tiene cada pack?



OPERACIÓN



OPERACIÓN



OPERACIÓN