

1. Обчисли

$9 + 1 + 5 =$

$8 + 2 + 4 =$

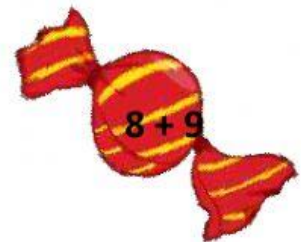

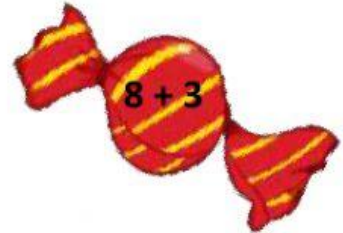
$3 + 7 + 9 =$

$5 + 5 + 8 =$

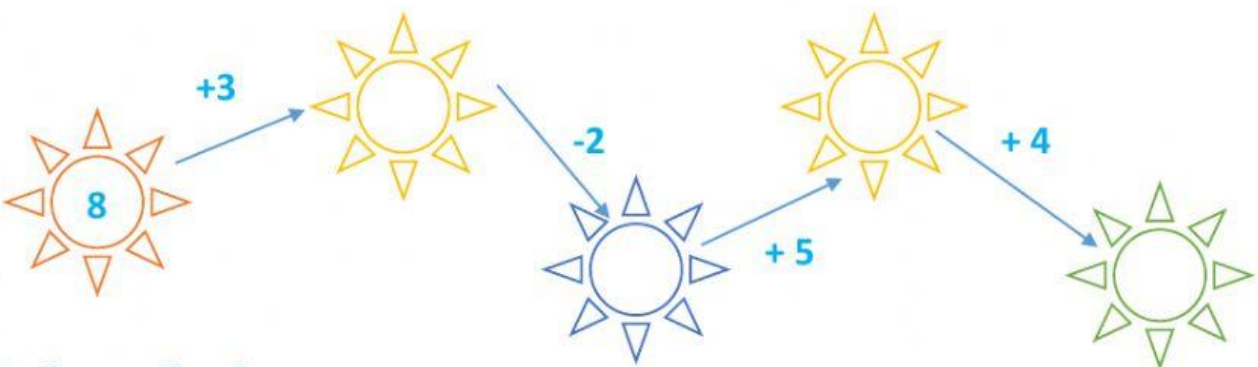
$2 + 8 + 1 =$

$6 + 4 + 7 =$

2. Поклади кожну цукерку у відповідний мішечок (з'єднай вираз і його значення)



3. Обчисли ланцюжок.



Оціни свої вміння



У мене все вийшло!



Виникали труднощі



Потрібно ще тренуватися