



# INSTITUCIÓN EDUCATIVA LUIS CARLOS GALÁN

Aprobación: Resoluciones N° 001171 de 25 de Agosto/2000 y N° 000043 del 15 de Enero/2001 de la Secretaría de Educación Departamental de Cundinamarca Diagonal 8 n. 11 -33 Este. Comuna 4. Soacha.  
Formación Humanista para el Liderazgo social"

Oficial: [luisCarlos.galan@educsoacha.gov.co](mailto:luisCarlos.galan@educsoacha.gov.co) / [luisCarlos.galan@hotmail.com](mailto:luisCarlos.galan@hotmail.com)

ALTOS DEL PINO JORNADA TARDE



Nombre: \_\_\_\_\_

Los niños del barrio han decidido realizar una feria para reunir dinero y así contribuir en los arreglos de la vía. Cada uno ha conseguido unos elementos para vender. Ayúdales a hacer las cuentas para saber cuánto reciben por sus ventas.

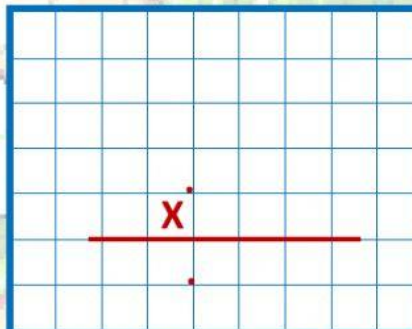
1. Juanito va a vender **7** manzanas. Si cada manzana cuesta **\$1.500** ¿cuánto debe recibir Juanito por las **7** manzanas?



1 manzana	2 manzanas	3 manzanas	4 manzanas	5 manzanas	6 manzanas	7 manzanas

## Análisis

Para saber cuánto recibe Juanito por las manzanas hago una



## Respuesta

Juanito recibe

Por las 7 manzanas.

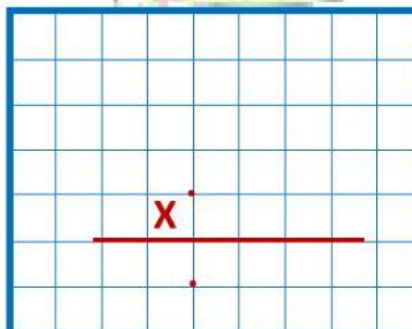
2. Camila tiene **5** carritos para vender. Si vende cada carrito en **\$3.200** ¿cuánto recibirá por la venta de los **5** carritos?



1 carrito	2 carritos	3 carritos	4 carritos	5 carritos

## Análisis

Para saber cuánto recibe Camila al vender los 5 carritos hago una



## Respuesta

Camila recibe

Por la venta de los 5 carritos.





# INSTITUCIÓN EDUCATIVA LUIS CARLOS GALÁN

Aprobación: Resoluciones N° 001171 de 25 de Agosto/2000 y N° 000043 del 15 de Enero/2001 de la Secretaría de Educación Departamental de Cundinamarca Diagonal 8 n. 11 -33 Este. Comuna 4. Soacha.  
Formación Humanista para el Liderazgo social"  
[Oficial.luisCarlos.galan@educsoacha.gov.co](mailto:Oficial.luisCarlos.galan@educsoacha.gov.co) / [luisCarlosgalan@hotmail.com](mailto:luisCarlosgalan@hotmail.com)

ALTOS DEL PINO JORNADA TARDE



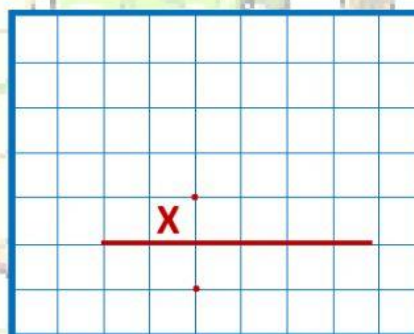
3. Anita tiene **8** gelatinas para vender. Si vende cada gelatina en **\$1.500**.  
¿cuánto recibirá por la venta de las **8** gelatinas?



1 gelatina	5 gelatinas
2 gelatinas	6 gelatinas
3 gelatinas	7 gelatinas
4 gelatinas	8 gelatinas

## Análisis

Para saber cuánto recibe Anita al vender las 5 gelatinas hago una



## Respuesta

Anita recibe

Por la venta de las 8 gelatinas.

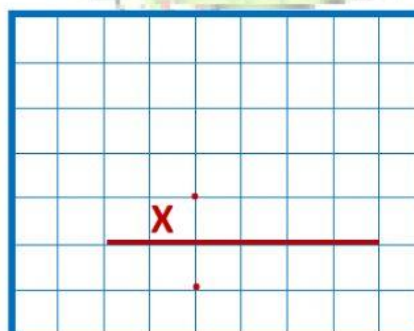
4. Kevin preparó junto con su familia **10** limonadas para vender. Si vende cada limonada en **\$1.100**. ¿cuánto recibirá por la venta de las **10** limonadas?



1 limonada	6 limonadas
2 limonadas	7 limonadas
3 limonadas	8 limonadas
4 limonadas	9 limonadas
5 limonadas	10 limonadas

## Análisis

Para saber cuánto recibe Kevin al vender las 10 limonadas hago una



## Respuesta

Kevin recibe

Por la venta de las 10 limonadas.





# INSTITUCIÓN EDUCATIVA LUIS CARLOS GALÁN

Aprobación: Resoluciones N° 001171 de 25 de Agosto/ 2000 y N° 000043 del 15 de Enero /2001 de la Secretaría de Educación Departamental de Cundinamarca Diagonal 8 n. 11 -33 Este. Comuna 4. Soacha.  
Formación Humanista para el Liderazgo social"

Oficial: [luisCarlos.galan@educsoacha.gov.co](mailto:luisCarlos.galan@educsoacha.gov.co) / [luisCarlos.galan@hotmail.com](mailto:luisCarlos.galan@hotmail.com)

ALTOS DEL PINO JORNADA TARDE



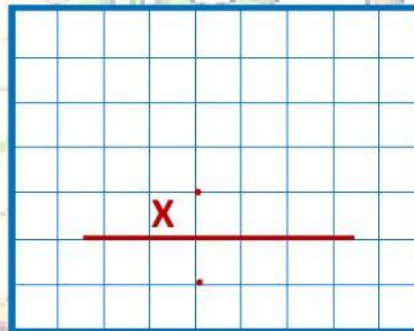
5. Mariana y Pablito que son hermanos prepararon junto con su familia **10** empanadas para vender. Si vende cada empanada en **\$2.200**. ¿Cuánto recibirán por la venta de las **10** empanadas?



1 empanada	6 empanadas
2 empanadas	7 empanadas
3 empanadas	8 empanadas
4 empanadas	9 empanadas
5 empanadas	10 empanadas

## Análisis

Para saber cuánto reciben Mariana y Pablito por la venta de las 10 empanadas hago una



## Respuesta

Mariana y Pablito reciben

Por la venta de las 10 empanadas

6. Para llevar un registro del total de las ventas la profesora de los niños les entregó la siguiente tabla. Ayúdales a completarla.

Nombre	Producto	Precio por producto	Cantidad vendida	Valor de la venta total						
				c	d	u	.	c	d	u
										
										
										
										
										
Total de aportes										

7. Si cada uno de los niños vendió todos los productos. ¿Cuánto dinero pueden aportar al arreglo de la vía de su barrio?

- a. Setentauno mil quinientos      b. Centa y un mil quinientos  
c. Zetenta y un mil Kinientos      d. Setenta y un mil quinientos

8. Si lo que entrega Pablito y Mariana es repartido en 2 partes iguales. ¿Cuál es el aporte de cada uno?

- a. 10.000      b. 11.000      c. 1.100      d. 22.000







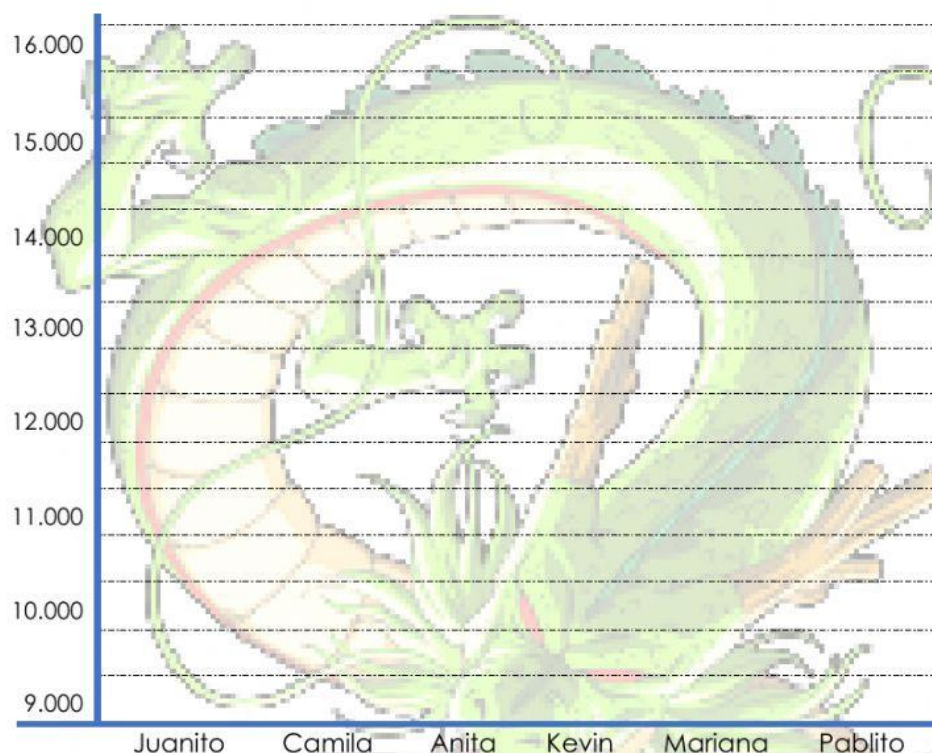
# INSTITUCIÓN EDUCATIVA LUIS CARLOS GALAN

Aprobación: Resoluciones N° 001171 de 25 de Agosto/ 2000 y N° 000043 del 15 de Enero /2001 de la Secretaría de Educación Departamental de Cundinamarca Diagonal 8 n. 11 -33 Este. Comuna 4. Soacha.  
Formación Humanista para el Liderazgo social"  
[Oficial.luisalos.galan@edusosacha.gov.co](mailto:Oficial.luisalos.galan@edusosacha.gov.co) / [luis.carlos.galan@hotmail.com](mailto:luis.carlos.galan@hotmail.com)

ALTOS DEL PINO JORNADA TARDE



9. Representa en la gráfica el total de las ventas realizadas por cada uno de los niños



10. Quien aportó más al arreglo de la vía

- a. Anita      b. Juanito      c. Camila      d. Pablito

Quien aportó menos al arreglo de la vía

- a. Anita      b. Juanito      c. Camila      d. Pablito

Qué niños aportaron la misma cantidad

- a. Juanito, Camilo y Anita      b. Mariana Pablito y Kevin  
c. Andrea Susana y Kevin      d. Margarita Pablito y Mariana

El grupo está conformado por 3 personas de género masculino y 2 de género femenino

- a. Verdadero      b. Falso

