


Después de interpretar estos fragmentos con las campanas del móvil o tablet, escribe el nombre de las notas y pon el nombre de la canción:

1




Nombre canción:

2



Nombre canción:

3



A musical staff in 4/4 time with a treble clef. The melody consists of quarter notes and eighth notes, with some notes colored orange and yellow. The staff ends with a double bar line.

Nombre canción:


4



Two musical staves in 4/4 time with a treble clef. The top staff contains a melody of quarter notes, with the notes for 'SI' and 'DO'' labeled below. The bottom staff contains a melody of quarter notes. Notes are colored in various colors including red, orange, yellow, green, blue, and purple.


Nombre canción:

5



Nombre canción:

6



Nombre canción:

Por favor, selecciona el grado de dificultad de esta actividad →

