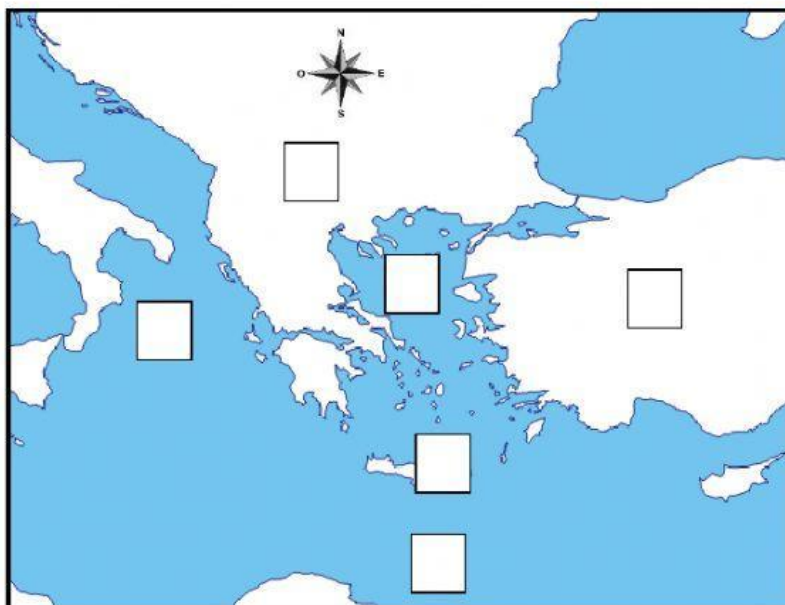




GUÍA DE LA ANTIGUA GRECIA
DEPARTAMENTO DE HISTORIA
3° BÁSICOS A - B - C.

ITEM I: COMPLETACIÓN.

1.- Ubica en el mapa los elementos geográficos, correspondientes al lugar en donde habitaron los griegos. Escribe en el cuadrado el número correspondiente a cada lugar. (1 punto c/u; 6 puntos en total)



1 MAR EGEO

2 PENINSULA DE LOS BALCANES

3 ASIA

4 ISLA DE CRETA

5 MAR MEDITERRÁNEO

6 MAR JÓNICO

ITEM II: SELECCIÓN MÚLTIPLE

2.- ¿En qué continente vivieron los griegos?

- a) América.
- b) África.
- c) Europa.

3.- ¿Cómo se llamaba la península en la que habitaron los griegos?

- a) Península Itálica.
- b) Al sur de la península de los Balcanes.
- c) Península de Cavancha.

4.- Los territorios donde vivían los griegos eran:

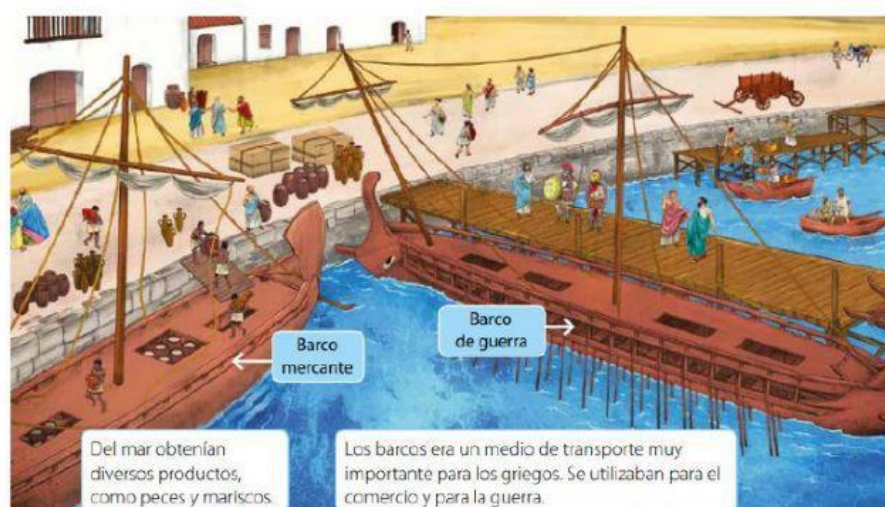
- a) planos.
- b) montañosos.
- c) de bosques.

5.- ¿Qué tipo de clima había en Grecia?

- a) Lluvioso.
- b) Mediterráneo.
- c) Desértico.

6.- La mayoría de las polis se encontraban cerca del mar porque:

- a) el mar era muy accesible y podían obtener alimentos.
- b) el mar era peligroso y profundo.
- c) porque el dios del mar provocaba maremotos.



7.- Los griegos realizaban actividades en el mar como la pesca y el transporte de productos. ¿Cuál de estos mares utilizaron principalmente los griegos?

- a) Jónico y Tirreno.
- b) Egeo y Negro.
- c) Mediterráneo y Egeo.


8.- ¿Cuántos tipos de barcos utilizaban generalmente los griegos?

- a) Uno solo, especialmente para las guerras.
- b) Dos, uno para el comercio y otro para las guerras.
- c) Solo uno, utilizado especialmente para el comercio.

9.- ¿Cuáles de estos productos fueron producidos por los griegos?

- a) Paltas y tomates.
- b) Aceitunas y uvas.
- c) Vino y maíz.

Observa la imagen de una polis griega y responde las siguientes preguntas de la 10 a la 12.



10.- ¿Cuál de las siguientes características corresponde a una polis griega?

- a) Ciudad – Estado, cada una con sus propias leyes y gobiernos.
- b) Tenían un gobierno de varios Reyes.
- c) Tenían un gobierno Central mediante un presidente.

11.- ¿Cuáles de las siguientes partes de las polis griegas eran las más importantes?

- a) El templo y el puerto.
- b) El teatro y el gimnasio.
- c) La acrópolis y el Ágora.

12.- En el Ágora las principales actividades que se realizaban eran:

- a) Ventas de productos, tiendas de médicos, barberías y venta de esclavos.
- b) Fiestas como los banquetes.
- c) Clases de matemáticas y ciencias.

13.- ¿Cómo se llamaba la moneda que los griegos utilizaban para comprar sus productos?

- a) Dólar.
- b) Dracma.
- c) Euro.



14.- ¿Cuáles de las siguientes polis fueron las más importantes para los griegos?

- a) Atenas y Creta.
- b) Micenas y Miletos.
- c) Esparta y Atenas.



15.- La polis guerrera era:

- a) Creta.
- b) Esparta.
- c) Micenas.

16.- La polis democrática era:

- a) Esparta.
- b) Atenas.
- c) Troya.

ÍTEM III: RELACIÓN.

17.- Une el nombre del elemento de la polis con la descripción que corresponda.

- | | |
|--------------|--|
| 1. Acrópolis | Plaza al aire libre donde se realizaban diferentes actividades de comercio, económicas, culturas y sociales. |
| 2. Polis | Recinto amurallado el cual se encuentra en la parte más alta de la ciudad, y los templos más importantes como por ejemplo el Partenón en Atenas. |
| 3. Ágora | Lugar de entrenamiento, en donde realizaban actividades físicas. |
| 4. Estadio | Son ciudades estados que eran plenamente independientes entre sí. |
| 5. Gimnasio | Hogar de los dioses. |
| 6. Templo | Espacio destinado a las representaciones dramáticas. |
| 7. Teatro | Lugar donde se realizaban los juegos olímpicos. |