

Học sinh:

Lớp:



Phiếu bài tập toán

GAM



Chọn câu trả lời đúng

Câu 1: Đơn vị nào dưới đây là đơn vị đo khối lượng?

Gam

Xăng - ti - mét

Đề - xi - mét

Mét

Câu 2: Số thích hợp để điền vào ô trống $1 \text{ kg} = \square \text{ g}$ là:

10

100

1000

Câu 5: khối lượng bình hoa trong hình là: \square gam.

600g

700g

800g

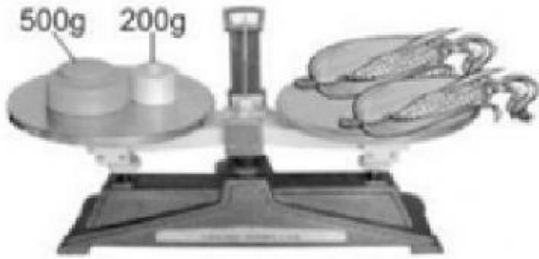
900g





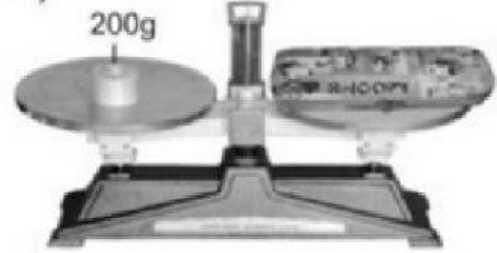
Quan sát tranh và điền số thích hợp

a)




2 bắp ngô cân nặngg

b)

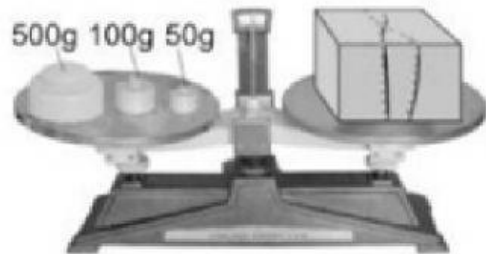


Hộp bút cân nặng.....g



Chùm nho cân nặng.....g

d)



Hộp quà cân nặng.....g



Thực hiện bài giải

Hai quả dưa hấu cân nặng tổng cộng là 1 kg. Quả dưa hấu thứ nhất cân nặng 415g. Cân nặng của quả dưa hấu thứ hai là:



Bài giải
