
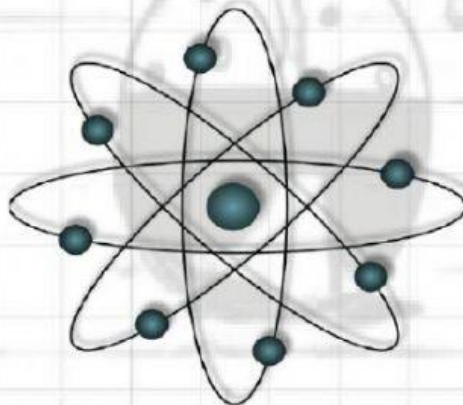


LKPD

Lembar Kerja Peserta Didik
Kelas X SMA



STRUKTUR ATOM



Nama :

Kelas :

Kelompok :



 **LIVEWORKSHEETS**

 **LIVEWORKSHEETS**

LEMBAR KERJA PESERTA DIDIK STRUKTUR ATOM

NAMA SISWA :

KELAS :

- Petunjuk :
1. Tulislah nama dan kelas pada kolom yang disediakan
 2. Jawablah pertanyaan berikut ini sesuai dengan perintah yang diberikan!


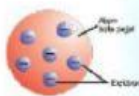
PERTANYAAN

1. Partikel terkecil yang tidak dapat dibagi lagi disebut

2. Perhatikan notasi berikut, A_ZX kemudian lengkapi table dibawah ini!

Simbol	Keterangan
X
Z
A

3. Pasangkan model atom berikut ini hingga sesuai berdasarkan nama ahli penemunya dengan cara MEMBUAT GARIS PENGHUBUNG antara gambar model atom dan nama penemunya.



Atom Bohr

Atom Thomson

Atom Rutherford

Atom Dalton

4. Berikut ini adalah partikel penyusun atom:



Neutron



Neutron



Proton

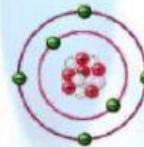


Electron

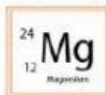


Nitrogen


5. Kliklah pada gambar berikut ini yang menunjukkan keberadaan *proton*




- 6.




Mg (Magnesium) memiliki jumlah neutron



N (Nitrogen) memiliki jumlah proton



O (Oksigen) memiliki jumlah elektron



C (Karbon) memiliki jumlah proton neutron elektron