


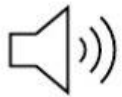



Resta o Sustracción 6


Habilidad 10 Números Primer Año




Sammy tiene 12 marcadores, y los va a compartir con su primo.



Sammy quiere que su primo y él tengan **la misma cantidad**.



¿Cuántos marcadores le dará Sammy a su primo?



Señala el grupo de marcadores que le dará Sammy a su primo.

