

1

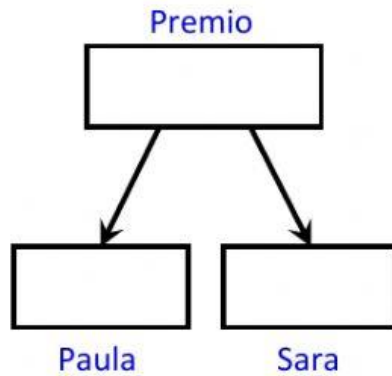
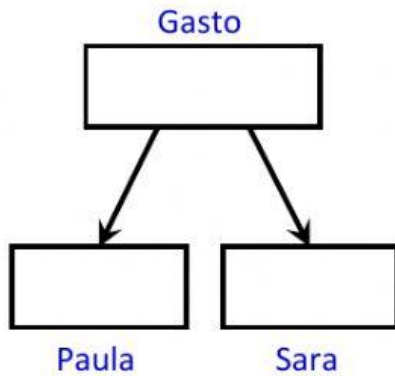
Estructura Aditiva Problemas

A PAULA Y A SARA LES TOCÓ LA LOTERIA

COMPLETA LOS DIAGRAMAS, HAZ PREGUNTAS Y RESPONDE.

Paula y Sara compran juntas lotería por navidad. En total gastaron 80 €, Paula puso 32 € y Sara el resto.

El día del sorteo obtuvieron un premio de 48000 € y la que más puso se lleva más premio. Una de las dos se llevó 19200 €.



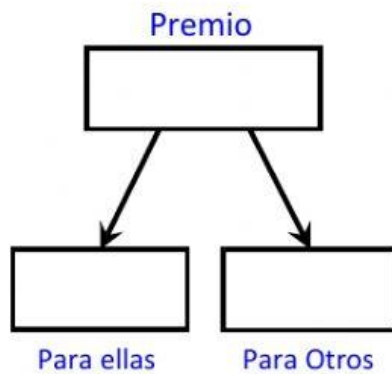
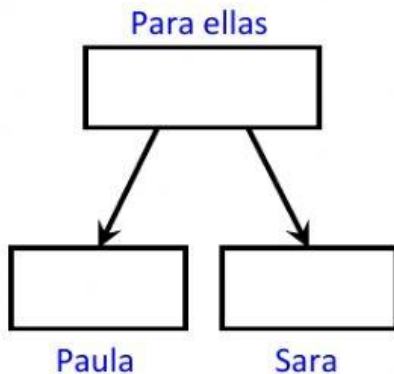
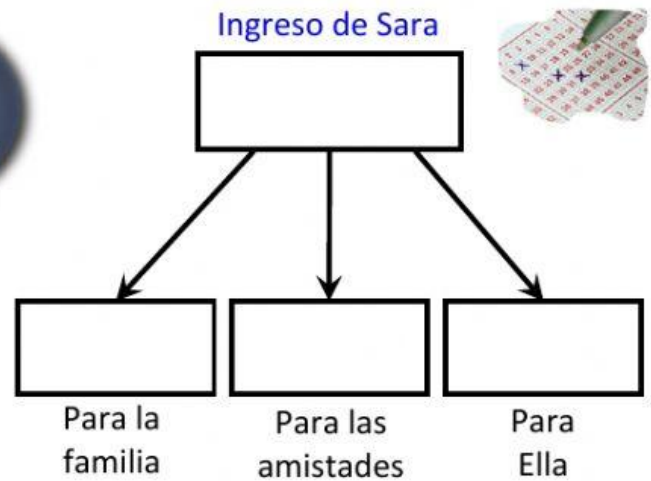
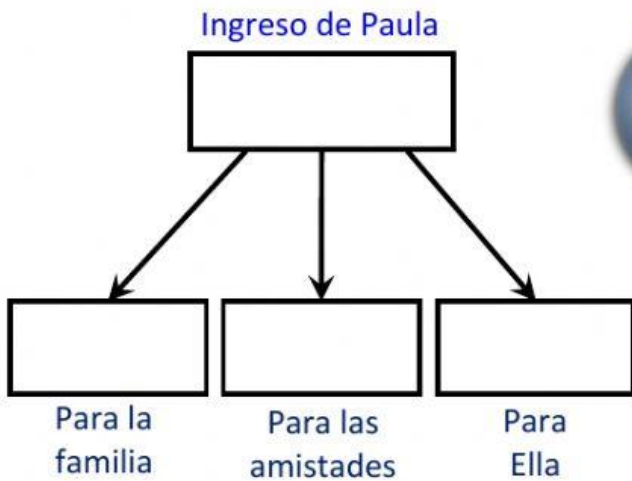
¿Cuánto dinero se llevó Paula? _____ €

¿Cuánto dinero puso Sara? _____ €



Paula decidió repartir una parte del premio. A la familia le dio 6400€, y a las amistades 3840 un quito, el resto se lo quedó ella.

Sara también decidió repartir una parte del premio. A la familia le dio 8640€ y a las amistades 7200, el resto se lo quedó ella.



¿Cuál de las dos le dio más dinero a la familia?

¿Cuánto dinero repartieron juntas?

_____ €