

Partie 1: Le Canada a \_\_\_\_\_ provinces et \_\_\_\_\_ territoires.



1. \_\_\_\_\_

12. \_\_\_\_\_

2. \_\_\_\_\_

13. \_\_\_\_\_

3. \_\_\_\_\_

4. \_\_\_\_\_

5. \_\_\_\_\_

6. \_\_\_\_\_

7. \_\_\_\_\_

8. \_\_\_\_\_

9. \_\_\_\_\_







10. \_\_\_\_\_

11. \_\_\_\_\_

Alberta  
Colombie-Britannique  
Île-du Prince-Édouard  
Manitoba  
Nouveau-Brunswick  
Territoires du Nord-Ouest  
Nunavut  
Nouvelle-Écosse  
Ontario  
Québec  
Saskatchewan  
Terre-Neuve-et-Labrador  
Yukon

Partie 2: Dans la légende, indiquez où se trouve chaque région.



La Légende	
	
	
	
	
	
	

Arctique  
Bouclier Canadien  
Atlantique  
Basses-Terres du Saint-Laurent  
Plaines Intérieures  
Cordillère