



# LEMBAR KERJA SISWA

## Pertumbuhan dan Perkembangan Tumbuhan

3

Oleh :  
**Nur Kholifatus Safitri, S.Pd.**

### Petunjuk pengisian :

1. Berdoa sebelum mengerjakan LKPD.
2. Isilah biodata pada kolom yang telah disediakan.
3. Ikuti langkah yang diberikan.
4. Jawablah pertanyaan pada liveworkshet dengan teliti.
5. Periksa kembali jawabanmu sebelum menekan tombol FINISH.

Untuk Memenuhi Tugas Bimtek TIK Dinas Pendidikan & Kebudayaan Kabupaten Jombang

Nama

No. Absen

A. Pilihlah jawaban yang tepat !

1. Faktor yang mempengaruhi pertumbuhan dan perkembangan tumbuhan yang berasal dari dalam tubuh tumbuhan tersebut adalah faktor ...

a. Eksternal

b. Internal

c. Nokternal

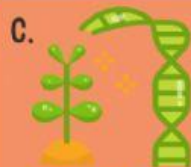
2. Faktor yang bukan termasuk faktor eksternal yang mempengaruhi pertumbuhan dan perkembangan tumbuhan adalah ...



Cahaya matahari



Pupuk



Genetik Induk



Suhu Lingkungan

B. Isilah pertanyaan dibawah ini dengan jawaban singkat yang tepat !

3. Perkembangbiakan tanaman tanpa bantuan manusia seperti gambar disamping termasuk jenis perkembangbiakan ...

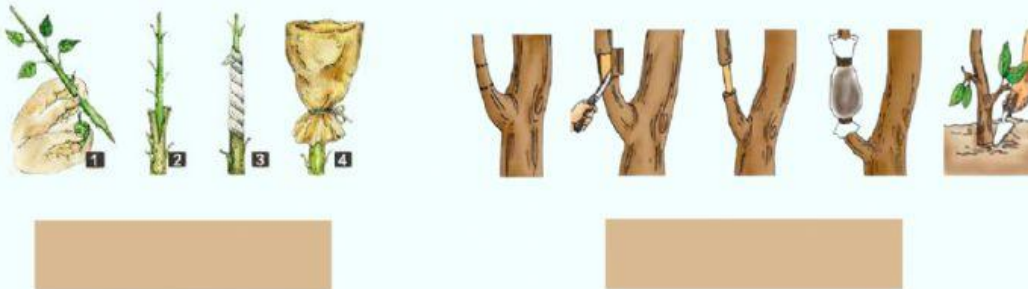


4. Perkembangbiakan tanaman dengan bantuan manusia seperti gambar disamping termasuk jenis perkembangbiakan ...



C. Pilihlah jawaban yang tepat !

5. Pilihlah jawaban yang sesuai dengan cara berkembangbiak tanaman berikut ini !



D. Pilihlah gambar dengan tepat !

6. Pilihlah tumbuhan mana saja yang berkembang biak dengan akar tinggal !



E Hubungkan gambar dengan tepat !

7. Hubungkan gambar dengan cara berkembangbiak tanaman berikut ini !



Biji



Tunas



Umbi batang



Umbi akar

Umbi lapis

Akar tinggal



Spora



Geragih



F. Geser dan urutkan gambar dengan tepat !

8. Urutkan langkah-langkah mencangkok dibawah ini !






1

2

3

4

5



9. Urutkan langkah-langkah sambung pucuk berikut ini !



1

2

3

4

