



UNIDAD EDUCATIVA FISCAL "BAHIA DE MANTA"

MANTA - MANABÍ

TELÉFONO: 052-383-433 - email: colegiobahiademanta@hotmail.com

EDUCACIÓN GENERAL BÁSICA
EVALUACIÓN PRIMER QUIMESTRE

MATEMÁTICAS
AÑO LECTIVO 2022- 2023

Ministerio
de Educación



APELLIDOS Y NOMBRES: _____



CURSO: _____ PARALELO: (____) _____

FECHA: ____/____/____

DOCENTE: Ing. Cindy Quijije

Apreciado estudiante, lea detenidamente cada enunciado. Éxito.

1.- Complete los siguientes patrones. (1pto)

								
---	---	---	--	--	--	--	--	--



2.- Escriba el número que va antes y después. (2ptos)

10	11	12
----	----	----

	14	
--	----	--

	4	
--	---	--

	5	
--	---	--

	17	
--	----	--

	18	
--	----	--

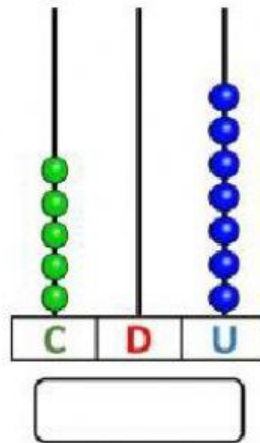
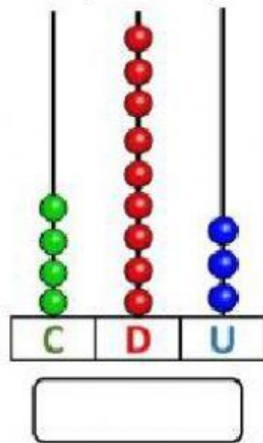
	16	
--	----	--

	7	
--	---	--

	10	
--	----	--

	9	
--	---	--

3.- Escriba las cantidades que se representan en los siguientes ábacos. (2ptos)



4.- Realice las siguientes sumas. (1ptos)

$$\begin{array}{r} 723 \\ + 154 \\ \hline \end{array}$$

$$\begin{array}{r} 340 \\ + 219 \\ \hline \end{array}$$

5.- Ordene de mayor a menor las siguientes cantidades: (2ptos)

17	20	12	35	22

6.- Resuelva el siguiente problema: (2ptos)

A mi cumpleaños invité a 36 amigos pero solo llegaron 21 amigos. ¿Cuántos no vinieron?

Datos

Amigos

Asistieron

Operación

	D	U
-		

R= no vinieron

"La educación es el arma más poderosa que puedes usar para cambiar el mundo". (Nelson Mandela)