



Nombre:	N.L.:
Fecha:	Grado: 4° Grupo:

Coloca los términos de cada operación según corresponda, arrastrando el término a su lugar.

C	D	U
4	9	7
3	2	2
1 7 5		

Sumandos

Diferencia

C	D	U
4	9	7
1	7	5
3	2	2
9 9 4		

}

Suma o total






Minuendo



  









Sustraendo

### Dictado de cantidades.

Escribe las cantidades que se te dicten sin usar coma ni dejar espacios.

	1.
	2.
	3.
	4.
	5.

Califica la tarea de Panchito Pérez, seleccionando una  a la escritura correcta y un  a las incorrectas.

Doce mil seiscientos veintidós		
Seiscientos cuarenta y nueve		
Trece mil quinientos veinti ocho		
Cinco mil doscientos ochenta y siete		
Dieciseis mil cuatrocientos cincuenta y cinco	