


ESFUERZOS MECÁNICOS

Seleccione la respuesta correcta



COMPRESIÓN

TENSIÓN

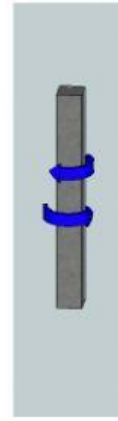
FLEXIÓN



COMPRESIÓN

TENSIÓN

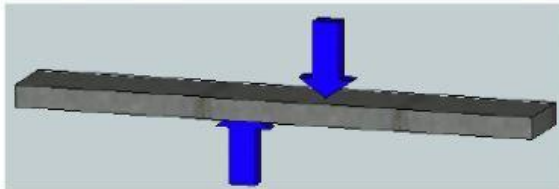
FLEXIÓN



COMPRESIÓN

TORSIÓN

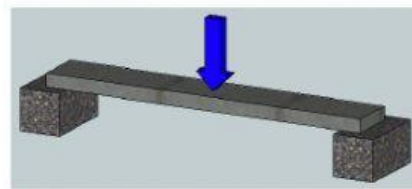
FLEXIÓN



COMPRESIÓN

TENSIÓN

CORTE



FLEXIÓN

TENSIÓN

TORSIÓN

Responda en el espacio correspondiente el tipo de esfuerzo al que están sometidos los siguientes elementos:

1. Las columnas de un edificio.

COMPRESIÓN

TENSIÓN

FLEXIÓN

2. El cable de una grúa:

COMPRESIÓN

TENSIÓN

FLEXIÓN

3. La punta de un destornillador:

COMPRESIÓN

TORSIÓN

FLEXIÓN

4. Una llave al abrir la Puerta:

TORSIÓN

TENSIÓN

FLEXIÓN

5. Las patas de una silla

COMPRESIÓN

TENSIÓN

FLEXIÓN