



**LEMBAR KEGIATAN PESERTA DIDIK (LKPD)**  
**SD NEGERI KERTOSARI 03**

**Karakteristik sosial budaya  
dan geografis  
negara-negara ASEAN**

**FASE C**  
**KELAS VI**  
**SEMESTER I**  
**Tahun ajaran 2022/2023**

**PROGRAM PENDIDIKAN PROFESI GURU DALAM JABATAN**  
**FAKULTAS KEGURUAN DAN ILMU PENDIDIKAN**  
**UNIVERSITAS MUHAMMADIYAH MALANG**

 logocorporate  @logocorporate  logocorporate

### **PETUNJUK PENGGUNAAN LKPD**

1. Berdoalah sebelum belajar
2. Cermatilah setiap kalimat ajakan dan perintah pada LKPD
3. Pelajari dengan teliti materi yang di bahas
4. Lakukan semua kegiatan yang ada pada LKPD
5. Jika ada materi yang meragukan atau sulit, silahkan dicatat dan tanyakanlah kepada teman atau guru kamu
6. Kerjakan latihan soal pada LKPD

**SELAMAT MEMULAI AKTIVITAS BELAJARMU**


## **AYO BERNYANYI!**

<https://www.youtube.com/watch?v=bgqZXub15Fk>



## **SEBELUM BELAJAR MARI KITA SIMAK VIDEO BERIKUT INI!**

<https://www.youtube.com/watch?v=8GznLP1XVY8&t=1124s>



## AKTIVITAS 1

Ayo, memilih salah satu jawaban yang tepat pada huruf a, b, c, atau d!

1. Kepanjangan ASEAN adalah ...

a. Association of Southeast Asian Nations

b. Association of South Asia National

c. Association on Southeast Asian Nations

d. Association on South Asia National

2. Berikut yang bukan negara pendiri ASEAN adalah ...

b. Indonesia

a. Kamboja

c. Malaysia

d. Filipina

3. Warna biru pada lambang ASEAN adalah ...

a. Keberanian dan semangat

b. Perdamaian dan keamanan

c. Kesucian

d. Persatuan

4. Tujuan didirikannya ASEAN adalah ...

a. Meningkatkan pertumbuhan ekonomi, sosial, serta budaya di kawasan ASEAN

b. Membuat bom nuklir

c. Membuat negara adikuasa

d. Menguasai dunia

5. Tokoh pendiri ASEAN dari Indonesia adalah ...

b. Tun Abdul Razak

a. Thanat Khoman

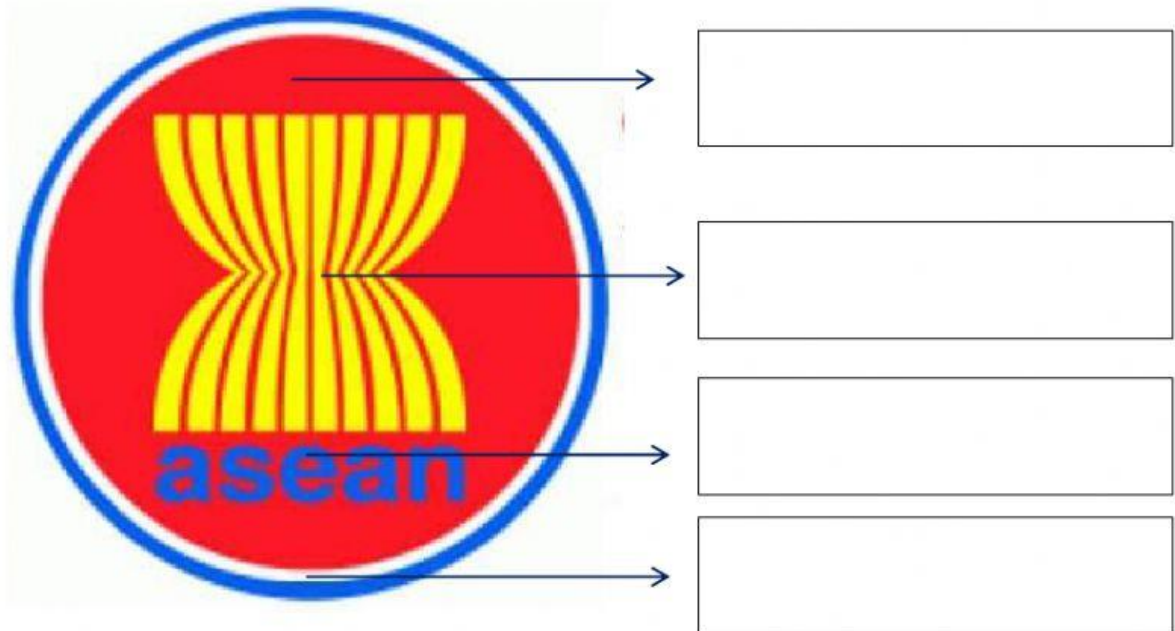
d. S. Rajaratnam

c. Adam Malik

## AKTIVITAS 2

### DRAG AND DROP

PINDAHKAN KOTAK DI BAWAH GAMBAR SESUAI PANAH, PERHATIKAN WARNA YANG DITUNJUKKAN!



kesucian

kemakmuran

Perdamaian dan  
kemantapan

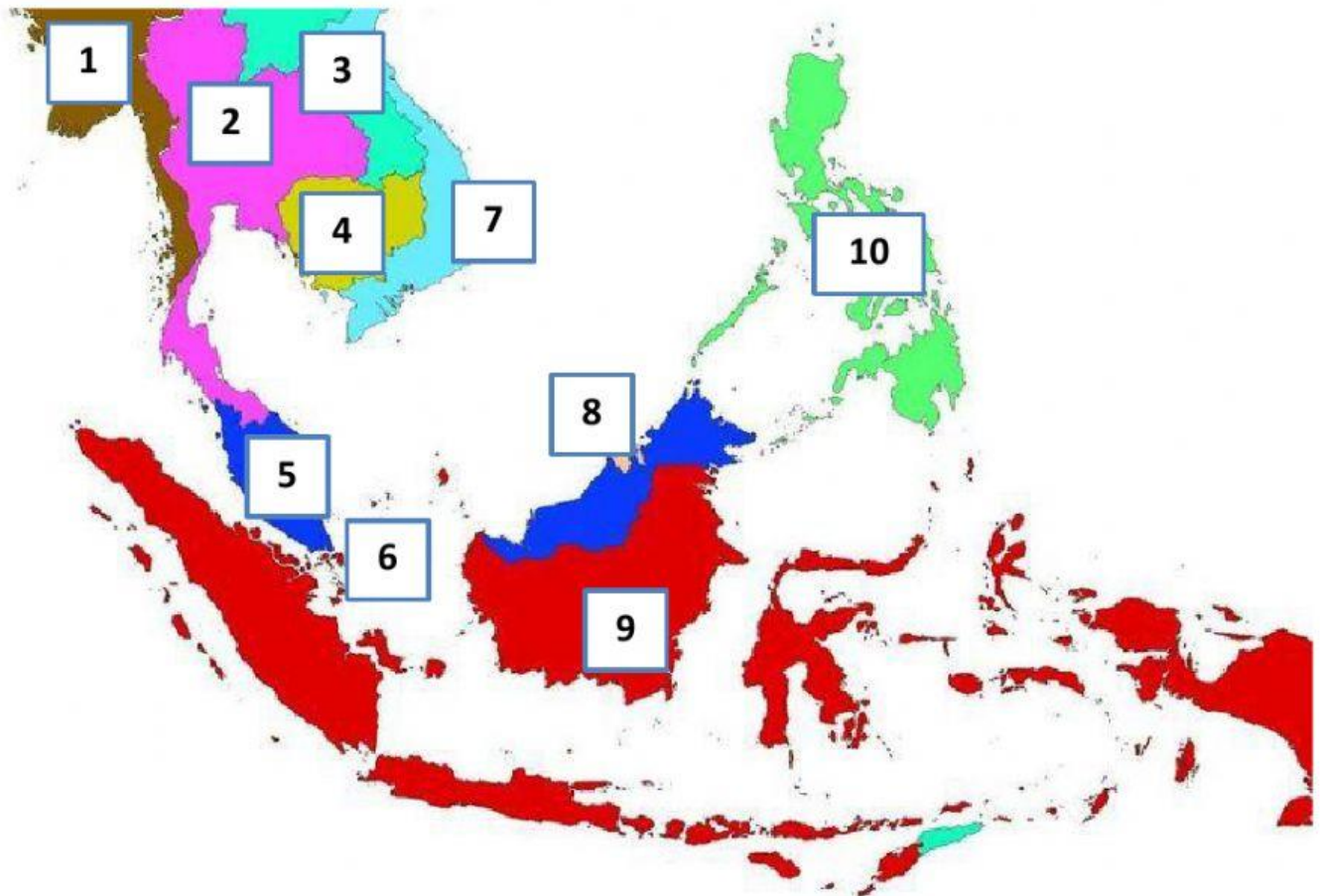
Keberanian dan  
dinamika



### AKTIVITAS 3

#### MENARIK GARIS

TARIKLAH GARIS DARI KIRI KE KANAN, SESUAIKAN DENGAN NOMOR PADA PETA!



1	INDONESIA
2	SINGAPURA
3	KAMBOJA
4	MYANMAR
5	THAILAND
6	FILIPINA
7	LAOS
8	VIETNAM
9	MALAYSIA
10	BRUNEI DARUSSALAM

## AKTIVITAS 4

### AYO DISKUSI

- Tentukan dua negara ASEAN yang akan kamu cari informasinya lebih dalam lagi.
- Tulis masing-masing karakteristiknya pada tabel.
- Kamu dapat menuliskan persamaan atau membandingkan karakteristik yang dimiliki oleh kedua negara tersebut.

No	Nama negara	Karakteristik sosial budaya	Karakteristik geografis	Persamaan	
				Karakteristik sosial budaya	Karakteristik geografis
1					
2					

Tulis di buku tulismu ya!