

2 FRACCIONES INVERSAS

Representaciones Variadas

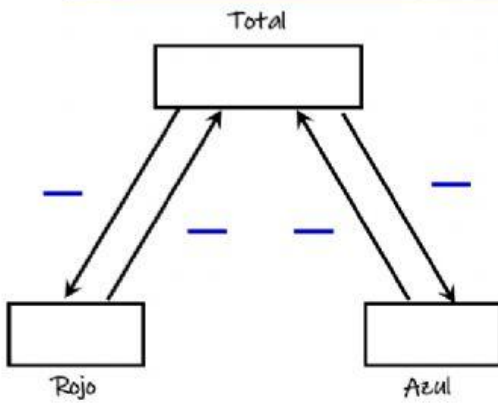
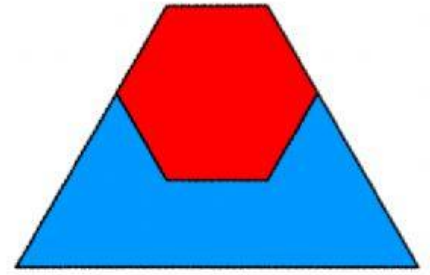
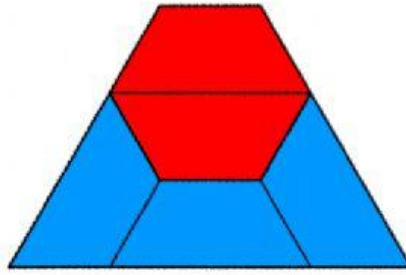
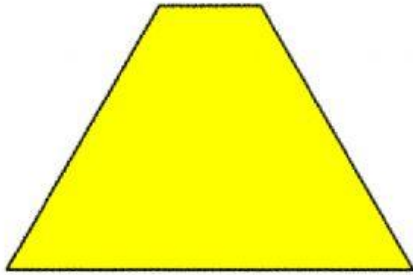
Pedro tenía un trapecio amarillo, pintó una parte de azul y otra de rojo. La parte azul tiene una superficie de 510 cm².

$$\frac{2}{5}T =$$

$$\frac{3}{5}T =$$

$$\frac{1}{5}T =$$

$$T =$$



Comprueba con la calculadora

