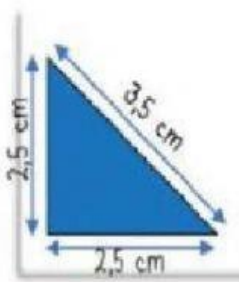
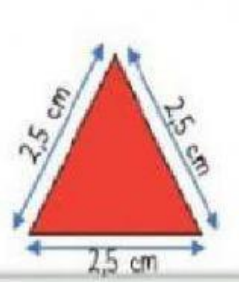
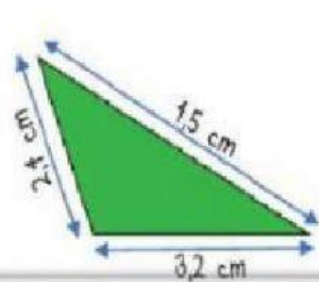
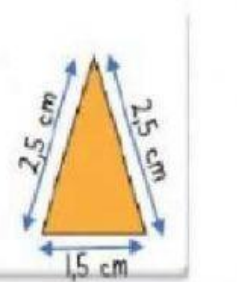


Clasificación de los Triángulos (lados y ángulos)

1. Una con una línea según corresponda

Equilátero	1 ángulo obtuso
Obtusángulo	3 ángulos agudos
Escaleno	3 lados iguales
Rectángulo	2 lados iguales
Isósceles	1 ángulo recto
Acutángulo	3 lados desiguales

2. Observa las medidas de cada triángulo y selecciona su nombre según sus lados

			
<input type="text"/>	<input type="text"/>	<input type="text"/>	<input type="text"/>