




الجدول التالي يبين أنواع العضلات أكمل المقارنة بينها بما يناسبها من الأعلى

النشاط 1

نوع العضلة	رسم شكل تخطيطي	تختص	التسميه وامكانية التحكم فيها	ظهورها تحت المجهر	توجد في
.....		تترتب مع العظام المكونة من نسيج ضام صلب	عضلات ..... لا يستطيع الإنسان السيطرة عليها	مخططة	معظم ..... الجسم هيكلية
.....		تترتب الخلايا على هيئة شبكة	اللاإرادية	مجموعة من الخلايا يظهر لونها فاتحاً أو داكناً	في ..... فقط
.....		لكل خلية نواة واحدة	عضلات ..... لا يستطيع الإنسان السيطرة عليها	غير مخططة ولا مرتبة في حزم	تبطن الكثير من الاعضاء الداخلية - الأمعاء - المثانة - الرحم