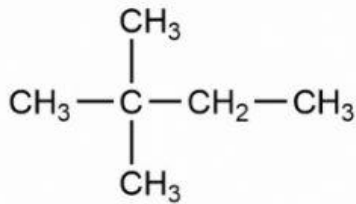
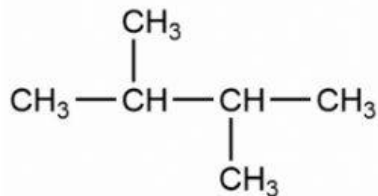


Nama	
Kelas	
Mapel	Kimia

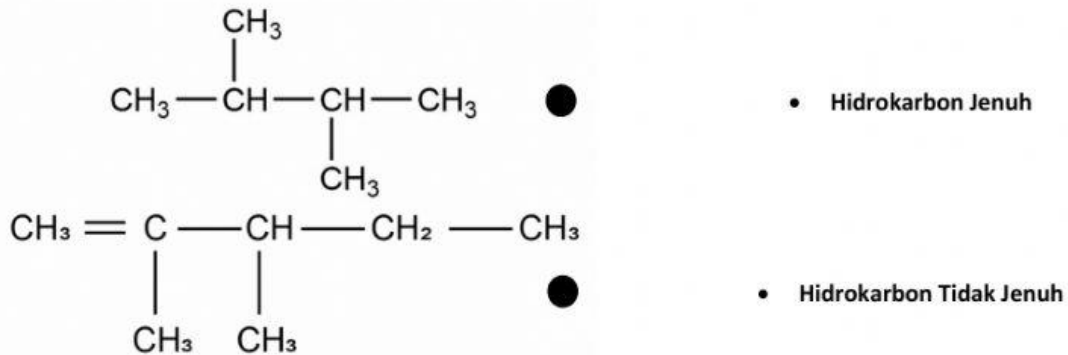
1. Nama senyawa berikut adalah _____



2. Nama senyawa berikut adalah _____



3. Jodohkan



4. Cari kata yang berhubungan dengan senyawa hidrokarbon

A	E	M	F	G	Y	U	D	F	H
Q	W	E	H	J	K	L	U	X	H
X	H	T	R	M	S	S	M	T	Y
T	Y	A	L	K	A	N	A	C	G
C	G	N	W	F	S	A	F	F	S
F	S	A	A	W	W	D	W	W	W
W	W	D	C	G	N	C	O	S	C
S	C	R	F	S	A	F	P	A	Y

5. Jelaskan pendapatmu tentang penggunaan bahan bakar yang mengandung logam berat
