











Ejercicio de Internet

Nombre

Grado

I. Pareo

| | | |
|---|--|--|
|  | |  |
|  | |  |
|  | |  |
|  | |  |
|  | |  |
|  | |  |

II. Cuenta cuantos Navegadores web hay en el cuadro:



III. Escoge la mejor respuesta

Es una red de computadoras a nivel mundial, conectadas entre sí, para compartir información.