



Estudiante:

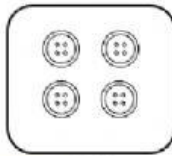
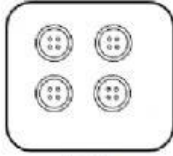
Curso: 2do Básico

Docente: Miss. Viviana Casañas



Asignatura: Matemática

"La honestidad es el primer capítulo en el libro de la sabiduría".


1. Cuenta los elementos coloca su cantidad en número y luego selecciona el signo "mayor que" > ; "menor que" < e "igual que" = según corresponda. (1 pt)



> < =




> < =




> < =

2. Observa los elementos, cuéntalos y selecciona los cuadritos según su cantidad (1 pt)



3. Observa los subconjuntos que se han formado y establece la relación de pertenencia coloreando el signo según corresponda. (1 pt)



	€	⊄	a-F
	€	⊄	a-V
	€	⊄	a-V
	€	⊄	a-F

	€	⊄	a-F
	€	⊄	a-V
	€	⊄	a-V
	€	⊄	a-F

4. Observa las escenas y coloca el número 1 si la escena sucedió antes o 2 si la escena sucedió después (1pt)



5. Cuenta los elementos y resuelve las siguientes operaciones matemáticas (2pts)

	-		=			+		=	
	-		=			+		=	
	-		=			+		=	
	-		=			+		=	

7. Observa las siguientes operaciones matemáticas y resuelve según te indica el signo. (3 pts)

$$\begin{array}{r} + 4 \\ + 4 \\ \hline \end{array}$$

$$\begin{array}{r} + 4 \\ + 0 \\ \hline \end{array}$$

$$\begin{array}{r} - 5 \\ - 2 \\ \hline \end{array}$$

$$\begin{array}{r} - 5 \\ - 3 \\ \hline \end{array}$$

$$\begin{array}{r} + 6 \\ + 1 \\ \hline \end{array}$$

$$\begin{array}{r} + 6 \\ + 3 \\ \hline \end{array}$$

$$\begin{array}{r} - 5 \\ - 1 \\ \hline \end{array}$$

$$\begin{array}{r} + 5 \\ + 0 \\ \hline \end{array}$$

$$\begin{array}{r} - 5 \\ - 4 \\ \hline \end{array}$$

$$\begin{array}{r} + 6 \\ + 2 \\ \hline \end{array}$$

$$\begin{array}{r} - 6 \\ - 0 \\ \hline \end{array}$$

$$\begin{array}{r} + 6 \\ + 4 \\ \hline \end{array}$$

Elaborado por
Miss. Viviana Casañas