

# 1 FRACCIONES

## Representaciones Variadas

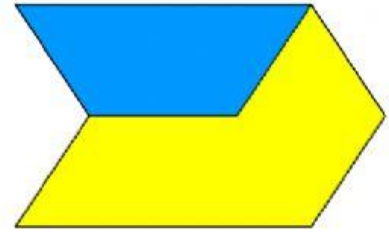

Pablo tenía un hexágono naranja, pintó una parte de azul y otra de amarillo. La parte azul tiene una superficie de  $129 \text{ cm}^2$ .

$$\frac{3}{8}H =$$

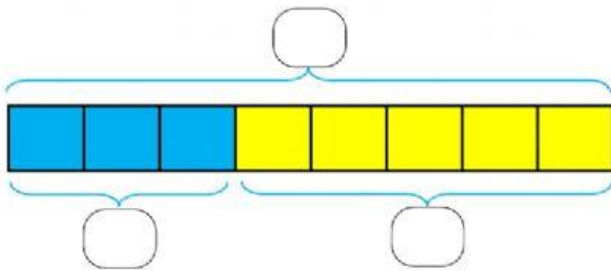
$$\frac{5}{8}H =$$

$$\frac{1}{8}H =$$

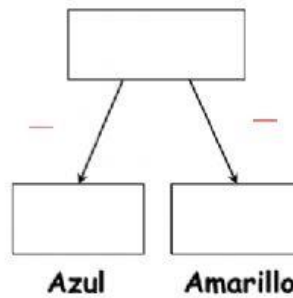
$$H =$$



### Representaciones



### Total



### Porcentajes

