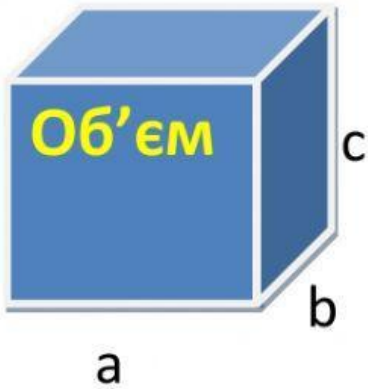


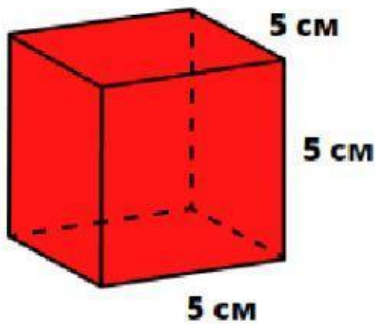
Дата _____ Прізвище, ім'я _____



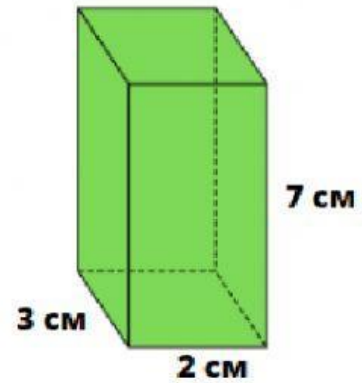
$$V = a \cdot b \cdot c$$

Об'єм = довжина x ширина x висота

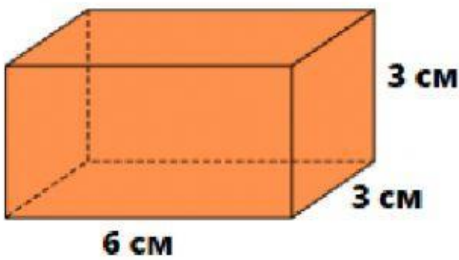
Знайдіть об'єм кожного предмета нижче.



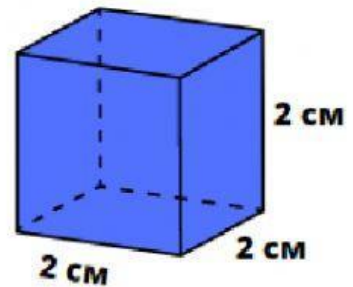
$V =$ _____ cm^3



$V =$ _____ cm^3



$V =$ _____ cm^3



$V =$ _____ cm^3