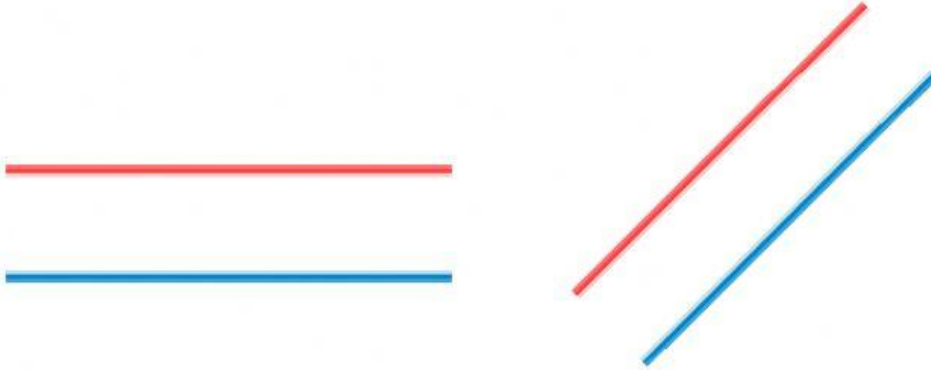


ชื่อ..... ชั้น ม.2/..... เลขที่.....

แบบฝึกทักษะที่ 1 เรื่องสมบัติของเส้นขนาน











เส้นขนาน

บทนิยาม เส้นตรงสองเส้นที่อยู่บนระนาบเดียวกัน ขนานกัน เมื่อเส้นตรงทั้งสองเส้นไม่ตัดกัน
เช่น



นักเรียนสามารถดูวิดีโอเพิ่มเติมได้ที่

จงพิจารณาว่า เส้นที่กำหนดให้ในแต่ละข้อ ขนานกันหรือไม่

| | |
|---|---|
| 1)  <u>ตอบ</u> | 2)  <u>ตอบ</u> |
| 3)  <u>ตอบ</u> | 4)  <u>ตอบ</u> |
| 5)  <u>ตอบ</u> | 6)  <u>ตอบ</u> |
| 7)  <u>ตอบ</u> | 8)  <u>ตอบ</u> |
| 9)  <u>ตอบ</u> | 10)  <u>ตอบ</u> |