






Pictograma

Observa con atención la tabla. Contesta lo que se pregunta;

- ¿Cuántas personas tienen el tipo de sangre B?
- ¿Cuántas personas tienen el tipo de sangre O?
- ¿Cuántas personas tienen el tipo de sangre A?
- ¿A cuántas personas representa cada gota?

| Tipo de Sangre | Número de Personas |
|----------------|--|
| Tipo A |  |
| Tipo B |  |
| Tipo AB |  |
| Tipo O |  |

 = 5 personas

