

ชื่อ:

เลขที่:

วันที่:

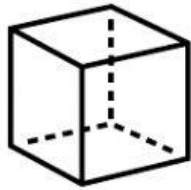
แบบประเมินความรู้รายวิชาคณิตศาสตร์ 1 รหัสวิชา ค21101

ชั้นมัธยมศึกษาปีที่ 1 /

กลุ่มสาระการเรียนรู้คณิตศาสตร์ ครูผู้สอน นางอารีรัตน์ เรียบเรียง


หน่วยที่ 4 มิติสัมพันธ์ของรูปเรขาคณิต ใบงานที่ 4.1 หน้าตัดของรูปเรขาคณิตสามมิติ

จงบอกชื่อหน้าตัดที่เกิดจากการใช้ระนาบตัดรูปเรขาคณิตสามมิติที่กำหนดให้ตามแนวการตัดต่อไปนี้



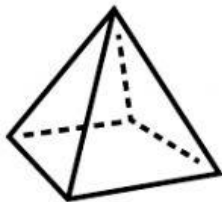
ตัดตามแนวขนานกับพื้นราบ

ตัดตามแนวตั้งฉากกับพื้นราบ



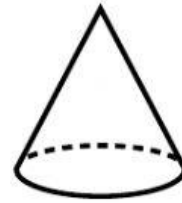
ตัดตามแนวขนานกับพื้นราบ

ตัดตามแนวตั้งฉากกับพื้นราบ



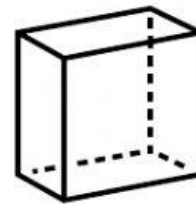
ตัดตามแนวขนานกับพื้นราบ

ตัดตามแนวตั้งฉากกับพื้นราบ



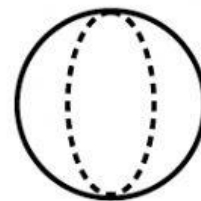
ตัดตามแนวขนานกับพื้นราบ

ตัดตามแนวตั้งฉากกับพื้นราบ



ตัดตามแนวขนานกับพื้นราบ

ตัดตามแนวตั้งฉากกับพื้นราบ



ตัดตามแนวขนานกับพื้นราบ

ตัดตามแนวตั้งฉากกับพื้นราบ