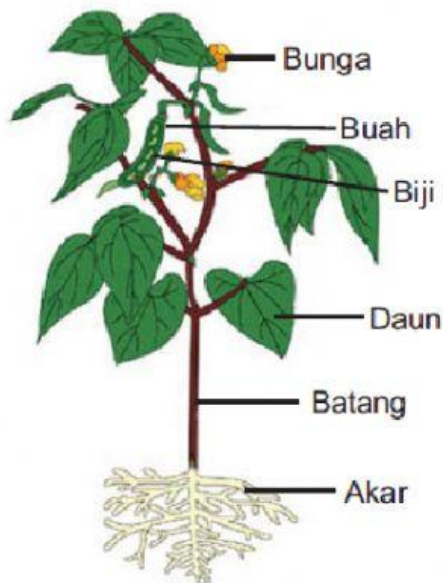


LEMBAR KERJA PESERTA DIDIK

**TEMA 3 SUBTEMA 1 PB 3
KELAS IV SD**



Nama :
Kelas :
No. Absen :



SDN KEBON KOSONG 17



TEMA 3 SUBTEMA 1 PB 3

Kompetensi Dasar dan Indikator Pencapaian Kompetensi

ILMU PENGETAHUAN ALAM

Kompetensi Dasar	Indikator Pencapaian Kompetensi
3.1. Menghubungkan antara bentuk dan fungsi tubuh pada hewan dan tumbuhan.	3.1.1. Mengidentifikasi bagian-bagian tumbuhan dan fungsinya. (C1) 3.1.2. Membandingkan bentuk bagian tumbuhan (HOTS C5)
4.1. Menyajikan hasil pengamatan tentang bentuk dan fungsi bagian tubuh hewan dan tumbuhan	4.1.1. Mempresentasikan hasil pengamatan bentuk dan fungsi bagian-bagian tumbuhan. (P3)

BAHASA INDONESIA

Kompetensi Dasar	Indikator Pencapaian Kompetensi
3.2. Menggali informasi dari seorang tokoh melalui wawancara menggunakan daftar pertanyaan.	3.2.1. Mengidentifikasi kata tanya yang digunakan untuk membuat kalimat tanya. (C1) 3.2.2. Membuat daftar pertanyaan untuk persiapan wawancara. (HOTS C6)

Tujuan Pembelajaran

Melalui model pembelajaran SAVI dengan pendekatan ilmiah diharapkan peserta didik dapat mengidentifikasi dan membandingkan hasil pengamatan dengan benar.


TEMA 3 SUBTEMA 1 PB 3

Petunjuk

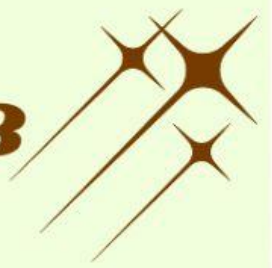
1. Perhatikan petunjuk soal yang ada dalam LKPD
2. Sebelum mengerjakan, cermati dahulu apa yang akan diketahui dan apa yang ditanyakan
3. Kerjasamalah dengan baik pada tiap kelompok
4. Tanyakan kepada guru, jika mengalami kesulitan dalam mengerjakannya.

Penyusun

Marlina Nugrahini Charmani, S.Pd / SDN Kebon Kosong 17




TEMA 3 SUBTEMA 1 PB 3




Membuat kalimat tanya menggunakan kata tanya berdasarkan video yang ditayangkan

Kata Tanya	Kalimat Tanya
1. Apa	
2. Dimana	
3. Kapan	
4. Siapa	
5. Mengapa	
6. Bagaimana	



TEMA 3 SUBTEMA 1 PB 3

Jodohkan dengan cara menyeret label bagian-bagian tumbuhan di kotak bawah pada tanda panah yang tepat



Bunga


Batang

Buah

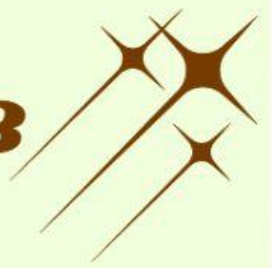
Akar

Biji

Daun



TEMA 3 SUBTEMA 1 PB 3



A. Prosedur Kerja

1. Amatilah gambar tanaman yang telah diberikan guru, baik dari bagian akar, daun dan biji
 - a) Pada bagian akar, amatilah apakah akar tanaman berupa serabut atau tunggang
 - b) Pada bagian daun, amatilah tulang daunnya apakah menyirip, menjari, melengkung atau sejajar.
 - c) Pada bagian bunga, amatilah apakah bunga pada tanaman tersebut merupakan bunga sempurna atau bunga tidak sempurna.
2. Tuliskan hasil pengamatan kalian pada tabel pengamatan di bawah ini.

No	Nama Tanaman	Bagian yang diamati		
		Akar	Tulang Daun	Bunga
1.				
2.				
3.				
4.				
5.				



Hubungkan dengan garis antara nama bagian tumbuhan dan fungsinya yang tepat



Daun



Batang



Akar



Bunga



Buah

Penyerapan Air Dan Zat Hara

Alat Berkembangbiak

Tempat Melindungi Biji

Tempat Terjadinya
Fotosintesis

Alat Transportasi

Selamat Mengerjakan