

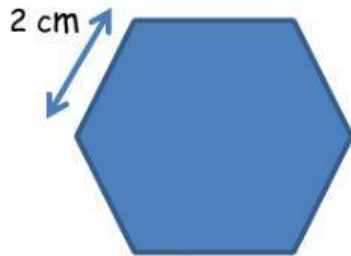
## REPASO MATEMÁTICAS

1. Calcula el perímetro de las siguientes figuras



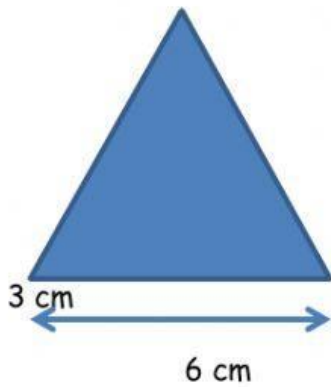
PERÍMETRO: \_\_\_\_\_

Operaciones:



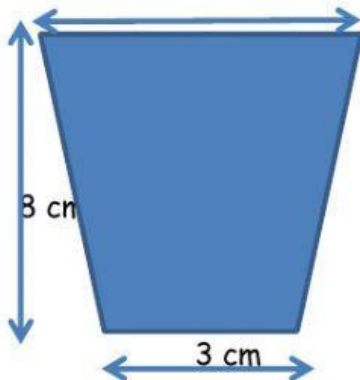
PERÍMETRO: \_\_\_\_\_

Operaciones:



PERÍMETRO: \_\_\_\_\_

Operaciones:

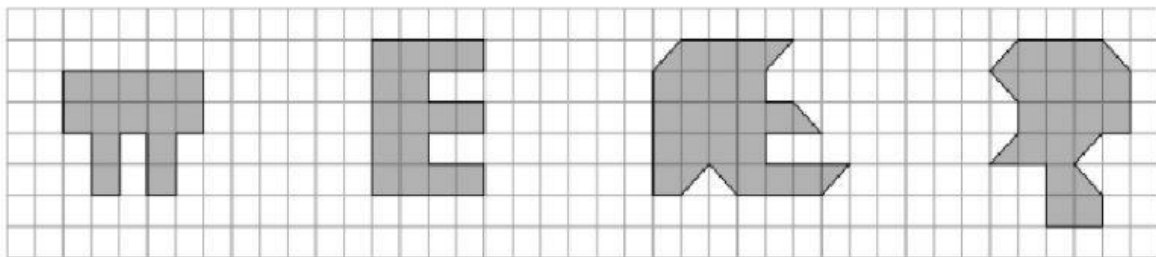


PERÍMETRO: \_\_\_\_\_

Operaciones

2. Mi tío tiene una parcela con forma cuadrada, quiere poner una valla alrededor, si un lado mide 15 m ¿cuántos metros de valla pondrá?

3. ¿Cuál es el área de las siguientes figuras?



--	--	--	--