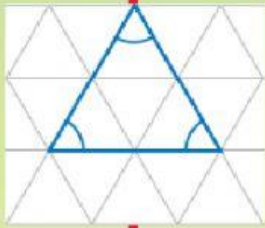
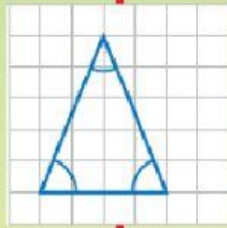


Bentuk



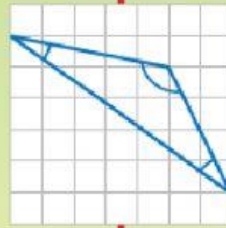
segi tiga
sama sisi

- ☐ sudut tirus
- ☐ sisi sama panjang



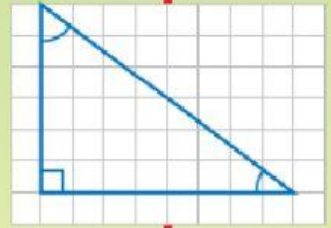
segi tiga
sama kaki

- ☐ sudut tirus
- ☐ sisi sama panjang



segi tiga
tak sama kaki


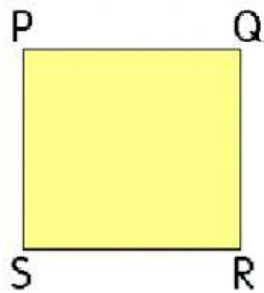
- ☐ sudut cakah
- ☐ sudut tirus
- ☐ sisi tak sama panjang



segi tiga
bersudut tegak

- ☐ sudut tegak
- ☐ sudut tirus

i Rajah menunjukkan segi empat sama dan segi empat tepat.



- a) Nyatakan garis-garis yang seranjang dengan PQ dan KN.
- b) Nyatakan garis-garis yang selari dengan PS dan KL.

Jawapan:

a)

PQ seranjang dengan

KN seranjang dengan

b)

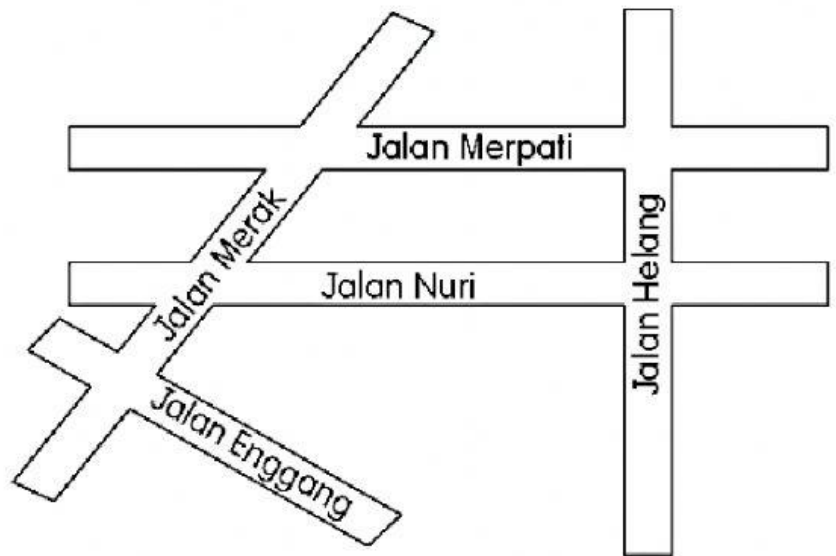
PS selari dengan

KL selari dengan

2

Rajah menunjukkan satu peta jalan.

- a) Nyatakan jalan yang selari dengan Jalan Merpati.
- b) Nyatakan jalan-jalan yang membentuk garis serenjang.



Jawapan:

a)

Jalan Merpati selari dengan

B)

Jalan Helang serenjang dengan

Jalan Helang serenjang dengan

