

PETUNJUK PENGGUNAAN LKPD

1. Berdoalah sebelum belajar
2. Cermatilah setiap kalimat ajakan dan perintah pada LKPD
3. Pelajari dengan teliti materi yang di bahas
4. Lakukan semua kegiatan yang ada pada LKPD
5. Jika ada materi yang meragukan atau sulit, silahkan dicatat dan tanyakanlah kepada teman atau guru kamu
6. Kerjakan latihan soal pada LKPD
7. Selalu membaca ulang dan menyelesaikan soal-soal agar semakin ingat dan **paham** dengan materi

SELAMAT MEMULAI AKTIVITAS BELAJARMU

SEMOGA ALLOH MEMUDAHKAN

AKTIVITAS 1

ANAK-ANAK MARI KITA MENYANYIKAN LAGU ASEAN YANG SUDAH KALIAN NYANYIKAN!


<https://youtu.be/bgqZXub15Fk>



AKTIVITAS 2

SIMAK VIDEO BERIKUT SEBELUM MENYELESAIKAN SOAL-SOAL DI BAWAH INI!

<https://youtu.be/TPkLw-cZNuI>



Ayo, memilih salah satu jawaban yang tepat pada huruf a, b, c, atau d!

1. Kepanjangan ASEAN adalah ...

a. Association of Southeast Asian Nations

b. Association of South Asia National

c. Association on Southeast Asian Nations

d. Association on South Asia National

2. Berikut yang bukan negara pendiri ASEAN adalah ...

b. Indonesia

a. Kamboja

c. Malaysia

d. Filipina

3. Warna biru pada lambang ASEAN adalah ...

a. Keberanian dan semangat

b. Perdamaian dan keamanan

c. Kesucian

d. Persatuan

4. Tujuan didirikannya ASEAN adalah ...

a. Meningkatkan pertumbuhan ekonomi, sosial, serta budaya di kawasan ASEAN

b. Membuat bom nuklir

c. Membuat negara adikuasa

d. Menguasai dunia

5. Tokoh pendiri ASEAN dari Indonesia adalah ...

b. Tun Abdul Razak

a. Thanat Khoman

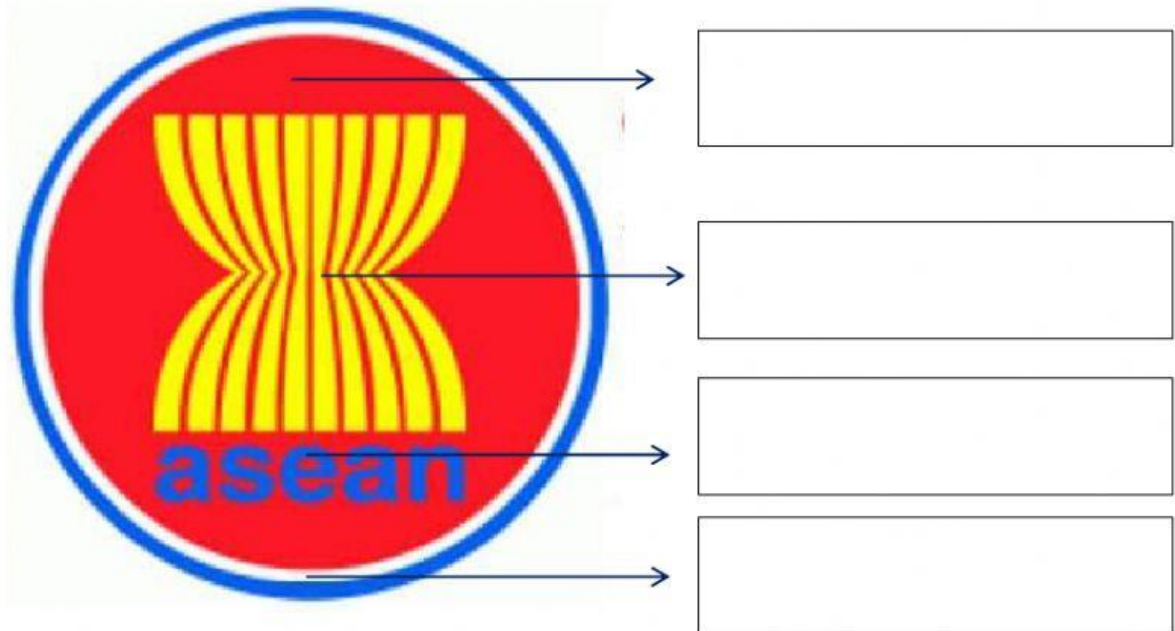
d. S. Rajaratnam

c. Adam Malik

AKTIVITAS 3

DRAG AND DROP

PINDAHKAN KOTAK DI BAWAH GAMBAR SESUAI PANAH, PERHATIKAN WARNA YANG DITUNJUKKAN!



kesucian

kemakmuran

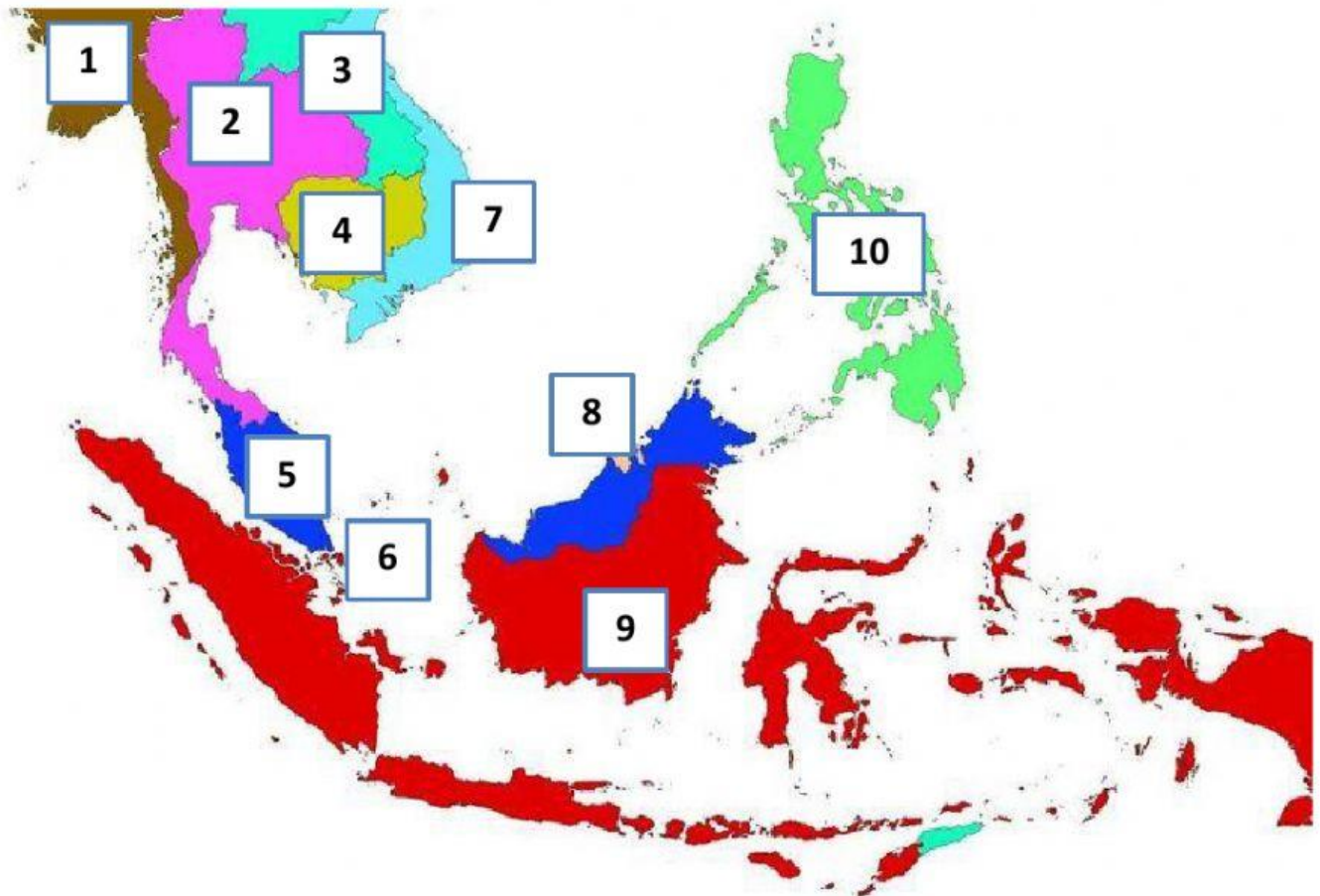
Perdamaian dan
kemantapan

Keberanian dan
dinamika

AKTIVITAS 3

MENARIK GARIS

TARIKLAH GARIS DARI KIRI KE KANAN, SESUAIKAN DENGAN NOMOR PADA PETA YA! SEMANGAAAAT!



1	INDONESIA
2	SINGAPURA
3	KAMBOJA
4	MYANMAR
5	THAILAND
6	FILIPINA
7	LAOS
8	VIETNAM
9	MALAYSIA
10	BRUNEI DARUSSALAM

AKTIVITAS 4

AYO DISKUSI

PERHATIKAN GAMBAR BERIKUT, SECARA BERPASANGAN DISKUSIKAN, CATAT HASILNYA DI BUKU TULIS KEMUDIAN PRESENTASIKAN!



1. Apa kondisi geografis pada gambar di atas?
2. Di manakah letak geografis tersebut?
3. Bagaimana pengaruh kondisi geografis tersebut terhadap masyarakat sekitar?
4. Adakah contoh negara lain yang mempunyai kondisi geografis yang sama dengan gambar tersebut? Jelaskan alasanmu?

AKTIVITAS 5

AYO BERLATIH

Ayo, jawablah soal-soal di bawah ini dengan tepat!

1. Tuliskan batas-batas kawasan Asia Tenggara!
2. Siapa saja tokoh-tokoh pendiri ASEAN?
3. Sebutkan tiga karakteristik geografis Asia Tenggara!
- 4.

ASEAN dibentuk tanggal 8 Agustus 1967 di Bangkok, Thailand oleh lima negara pendiri yaitu Indonesia, Malaysia, Filipina, Singapura dan Thailand melalui penandatanganan Deklarasi Bangkok. ASEAN dibentuk karena adanya keinginan kuat dari para pendiri ASEAN untuk menciptakan kawasan Asia Tenggara yang damai, aman stabil dan sejahtera. Hal tersebut mengemuka karena situasi rawan konflik, yaitu perebutan pengaruh ideologi negara-negara besar dan konflik antarnegara di kawasan yang apabila dibiarkan dapat mengganggu stabilitas kawasan sehingga menghambat pembangunan.

Menurutmu, apakah keberadaan ASEAN bermanfaat bagi bangsa Indonesia? Jelaskan alasanmu!

Tulis jawaban di buku tulis ya!