


ТАБЛИЦЯ МНОЖЕННЯ І ДІЛЕННЯ ЧИСЛА 2

1. Розстав клітинки з результатами таблиці множення числа 2.




Хто вийшов?

1	9	5	19	17	11	7	3	13	15	17	19	13	15	11
9	9	7	19	13	15	13	5	1	1	17	3	1	7	11
12	5	17	9	16	11	1	7	5	15	9	17	7	5	5
7	18	1	14	1	3	5	11	11	11	3	1	5	19	11
17	8	6	2	1	7	19	5	5	9	11	5	19	5	19
4	10	20	1	19	5	3	13	3	11	13	7	3	19	
10	2	8	20	5	17	16	10	20	12	15	13	17	19	7
19	17	4	18	13	2	13	19	3	1	10	15	11	3	13
17	11	12	6	2	13	9	13	13	17	3	2	1	13	11
13	13	14	4	2	17	17	4	14	15	3	3	4	17	9
11	11	10	2	4	13	12	7	13	10	15	19	10	3	5
7	3	8	15	8	1	17	13	11	4	5	3	10	9	3
9	9	16	15	13	14	14	16	4	19	13	8	19	1	7
5	7	8	14	13	11	15	15	13	17	10	15	8	4	9
3	9	5	4	8	12	18	18	2	12	10	20	6	4	8
7	9	11	13	15	17	19	1	3	5	7	9	11	11	13
5	13	1	3	5	1	9	11	13	15	17	19	1	1	3
7	11	17	19	3	7	3	17	1	7	9	3	5	7	9
9	7	11	13	15	17	19	1	3	5	7	9	11	11	13



2. Познач квіти з результатами множення числа 2.



3. Допоможи ведмедю знайти горщики з липовим медом, якщо на них записані числа, які не є результатом множення числа 2. Познач їх.




4. Дізнайся номери будинків. Обчисли та запиши відповіді.



5. Дай відповіді на запитання.

Скільки рукавичок?



$$2 \cdot \square = \square$$

Скільки ковзанів?



$$2 \cdot \square = \square$$

Скільки коліс?



















$$2 \cdot \square = \square$$

Скільки ягід вишні?



$$2 \cdot \square = \square$$

6. Визнач місце стоянки кожного автомобіля. Проведи лінії.

 $2 \cdot 8$	 $10 : 2$	20	12	 $16 : 2$	 $2 \cdot 7 - 3$
 $18 : 2 + 10$	 $2 \cdot 10$	19	11	 $18 : 2$	 $2 \cdot 3 + 1$
 $16 : 2 + 7$	 $2 \cdot 7$	18	10	 $2 \cdot 6$	 $2 \cdot 9$
 $6 : 2$	 $2 \cdot 10 - 3$	17	9	 $12 : 2$	 $2 \cdot 5$
		16	8		
		15	7		
		14	6		
		3	5		

7. Відправ транспорт у подорож. Обчисли та порівняй. Познач правильну

відповідь.

так



ні

$$20 : 2 - 1 < 99 - 90$$

так



ні

$$2 \cdot 2 + 7 < 2 \cdot 8 - 5$$

так



ні

$$2 \cdot 5 + 36 = (78 - 60) : 2$$

так



ні

$$2 \cdot 6 = 76 - 68 + 4$$

так



ні

$$2 \cdot 2 + 7 < 2 \cdot 8 - 5$$

так



ні

$$2 \cdot 3 + 26 > 2 \cdot 10 + 12$$

так



ні

$$2 \cdot 8 + 16 = 48 - 16$$

так



ні

$$18 : 2 + 91 > 14 : 2 + 93$$