

Kelas :

Anggota Kelompok :

1.

2.

3.

4.

5.

1. Perhatikan gambar berikut:

A

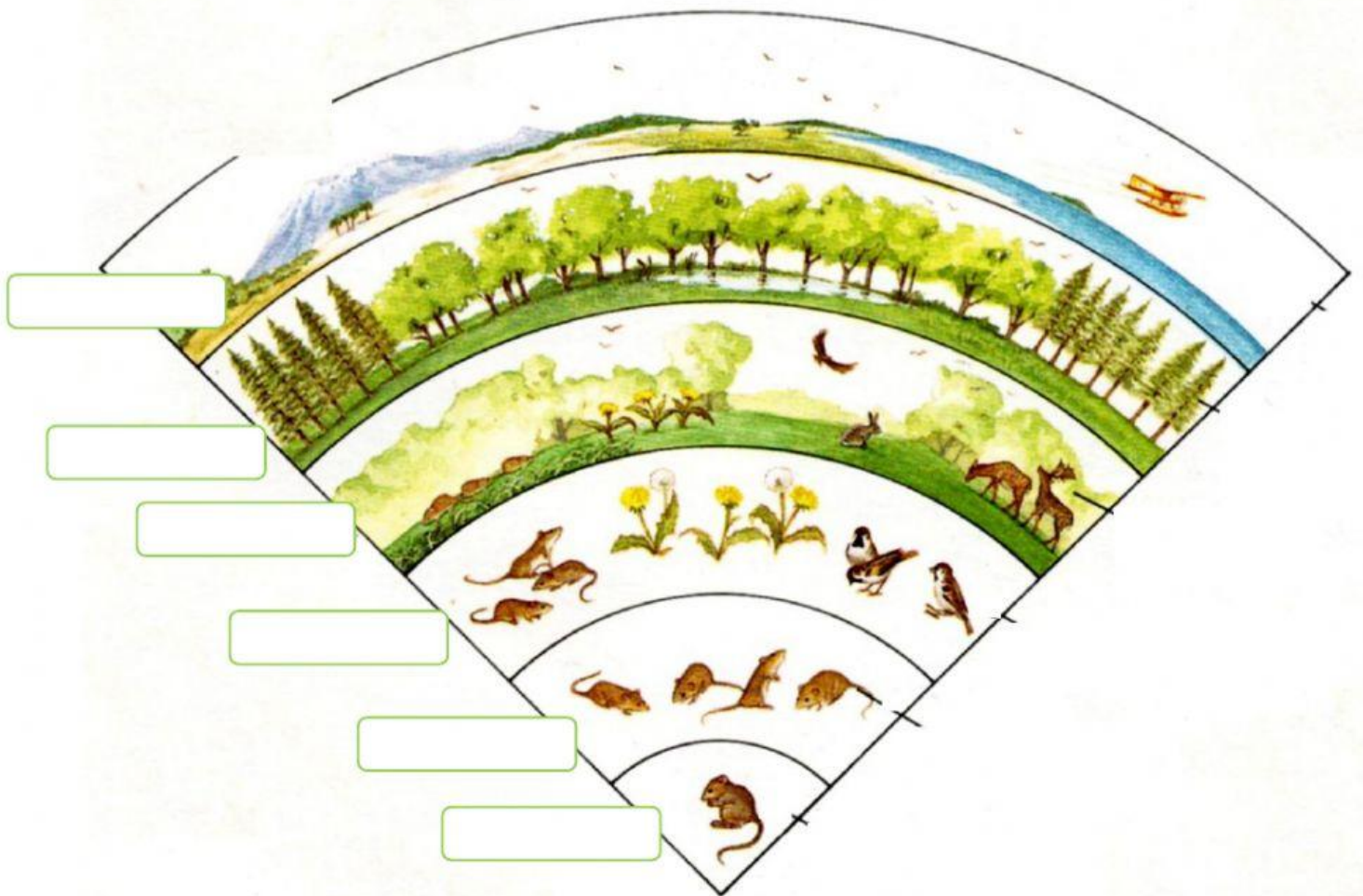


B



Menurut pendapat kelompok Kalian, dapatkah hewan/tumbuhan pada gambar A hidup di wilayah gambar B ? Jelaskan dengan singkat pendapat kelompok kalian!

II. Silahkan pasangkan ilustrasi tingkatan lapisan Biosfer dengan tingkatan lapisan Biosfer yang sesuai!



Individu

Ekosistem

Bioma

Komunitas

Biosfer

Populasi

**III. Buatlah contoh tingkatan lapisan biosfer mulai dari Individu hingga Bioma!**

1. Contoh Individu

---

---

2. Contoh Populasi

---

---

3. Contoh Komunitas

---

---

4. Contoh Ekosistem

---

---

5. Contoh Bioma

---

---

**IV. Tentukanlah kelompok factor persebaran flora dan fauna yang tepat!**

Hewan Penyerbuk

Kemiringan tempat

Aktivitas manusia

Suhu Udara

Kegemburan Tanah

Ketinggian tempat

Angin

Curah hujan





Tekstur Tanah

Aktivitas Manusia

Kelembaban udara



V. **Pasangkan tanaman berikut dengan jenis yang sesuai berdasarkan kelembabannya!**

No	Vegetasi	Jenis Tanaman
1		Hygrophyta
2		Tropophyta
3		Xerophyta
4		Mesophyta