

## LEMBAR KERJA PESERTA DIDIK

Nama :

Kelas/ No. Absen :





### Tema : Aktivitas Kebutuhan Manusia (1)

#### Tujuan Pembelajaran :

Peserta didik memahami dan mengidentifikasi aktivitas manusia bagi kehidupan masyarakat bagi kebutuhannya untuk diterapkan dalam kehidupan sehari-hari

**Petunjuk :** Perhatikan gambar-gambar yang tersedia dan berikan tanda panah berdasarkan tingkat kepentingannya!

Gambar

1

2

3

4

5

## LEMBAR KERJA PESERTA DIDIK

Nama :

Kelas/ No. Absen :

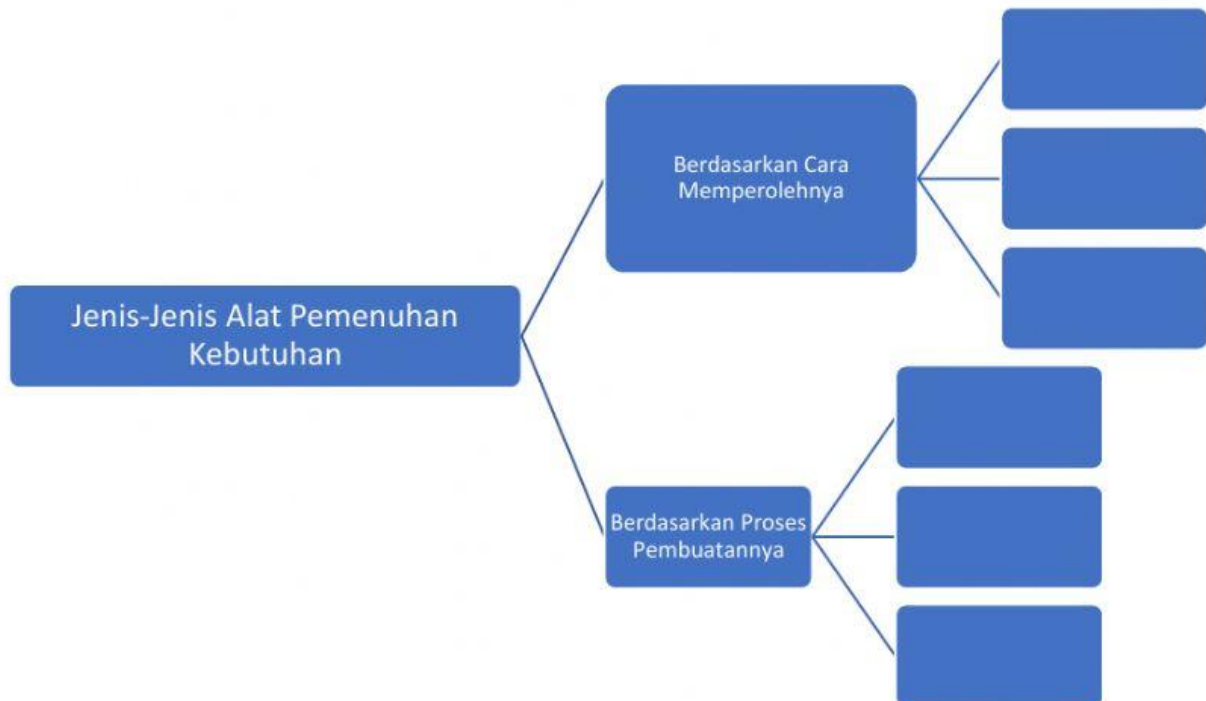
### Tema : Aktivitas Kebutuhan Manusia (2)

#### Tujuan Pembelajaran :

Peserta didik memahami dan mengidentifikasi aktivitas manusia bagi kehidupan masyarakat bagi kebutuhannya untuk diterapkan dalam kehidupan sehari-hari

#### Petunjuk :

Pindahkan ilustrasi gambar berikut ke dalam jenis-jenis alat pemenuhan kebutuhan!



#### Gambar Alat-Alat Kebutuhan :



## LEMBAR KERJA PESERTA DIDIK

Nama :

Kelas/ No. Absen :

### Tema : Aktivitas Kebutuhan Manusia (3)

#### Tujuan Pembelajaran :

Peserta didik memahami dan mengidentifikasi aktivitas manusia bagi kehidupan masyarakat bagi kebutuhannya untuk diterapkan dalam kehidupan sehari-hari

**Petunjuk :** Pilihlah jawaban a, b, c, atau d yang Anda anggap paling tepat!

1. Berdasarkan skala prioritas kebutuhan seseorang harus didasarkan pada....
  - a. jenis barang
  - b. kualitas barang
  - c. harga barang
  - d. tingkat kepentingan
2. Untuk mendapatkan barang yang jumlahnya terbatas maka diperlukan pengorbanan. Hal tersebut merupakan pengertian dari ...
  - a. barang Produksi
  - b. barang bebas
  - c. barang ekonomi
  - d. barang konsumsi
3. Yang termasuk contoh barang substitusi adalah ...
  - a. roti dan nasi
  - b. meja dan kursi
  - c. komputer dan printer
  - d. mobil dan solar
4. Barang yang fungsinya saling melengkapi disebut....
  - a. barang ekonomis
  - b. barang komplementer
  - c. barang konsumsi
  - d. barang produksi
5. Perhatikan data di bawah ini!
  - 1) papan kayu
  - 2) mesin
  - 3) makanan
  - 4) tepung terigu
  - 5) kain
  - 6) rotiDari data di atas yang termasuk barang setengah jadi adalah....
  - a. 1,3,6
  - b. 2,4,6
  - c. 1,4,5
  - d. 3,4,5

6. Pada saat musim hujan tiba, kota Juana mengalami banjir. Air disini merupakan....
- a. barang bebas
  - b. barang illith
  - c. barang substitusi
  - d. barang ekonomis
7. Suatu barang disebut barang bebas apabila....
- a. sulit untuk mendapatkan barang tersebut
  - b. untuk mendapatkan perlu pengorbanan
  - c. barang tersebut didapat tanpa pengorbanan
  - d. barang tersebut mempunyai kegunaan
8. Farah ingin menyuguhkan kopi untuk ayahnya, karena kopinya habis, maka ia memberikan teh. Kopi dan teh merupakan....
- a. barang substitusi
  - b. barang komplementer
  - c. barang jadi
  - d. barang setengah jadi
9. Komputer, traktor, mesin fotocopy menurut tujuan penggunaannya merupakan....
- a. barang bebas
  - b. barang produksi
  - c. barang ekonomi
  - d. barang konsumsi
10. Alat pemuas kebutuhan berdasarkan proses pembuatannya yaitu....
- a. barang substitusi dan barang komplementer
  - b. barang konsumsi dan barang produksi
  - c. barang ekonomis dan barang produksi
  - d. bahan mentah, barang setengah jadi, dan barang jadi.